

1	اختبار في الرياضيات لتقييم مكتسبات التلميذ	مرفوج 1	
2	اختبار في الرياضيات لتقييم مكتسبات التلميذ	مرفوج 2	
3	الأعداد المهيخة الطبيعية	الزروس	المجور
5	جمع و طرح الأعداد الصحيحة الطبيعية	الزروس	
7	ضرب الأعداد الصحيحة الطبيعية	الزروس	
9	قوى الأعداد الصحيحة الطبيعية	الزروس	
11	قواسم ومضاعفات عدد صحيح طبيعي	الزروس	
13	التوازي والتعامد	الزروس	المجور
15	الموسط العمودي	الزروس	
17	بعد نقطة عن مستقيم	الزروس	
18	الوضعية النسبية لدائرة ومستقيم	الزروس	
20	الزوايا المتتامّة المتكاملة المتقابلة بالرأس	الزروس	المجور
22	منصف الزاوية	الزروس	
24	مجموع أقيسة زوايا المثلث والرّباعي	الزروس	
26	تقييم	مرفوج 1	فرض مراقبة عدد 1
27	تقييم	مرفوج 2	فرض مراقبة عدد 1
28	تقييم	مرفوج 3	فرض مراقبة عدد 1
29	تقييم	مرفوج 4	فرض مراقبة عدد 1
30	تقييم	مرفوج 1	فرض مراقبة عدد 2
31	تقييم	مرفوج 2	فرض مراقبة عدد 2
32	تقييم	مرفوج 3	فرض مراقبة عدد 2
33	تقييم	مرفوج 4	فرض مراقبة عدد 2
34	تقييم	مرفوج 1	فرض تأليفي عدد 1
35	تقييم	مرفوج 2	فرض تأليفي عدد 1
36	تقييم	مرفوج 3	فرض تأليفي عدد 1
37	تقييم	مرفوج 4	فرض تأليفي عدد 1

تمرين 1 احسب العمليات التالية :

..... = 2 x (7 - 67) * = 7 + 19 + 53 *

..... = 1 + 30 - 130 * = 2 x 7 - 67 *

تمرين 2 أتمم الفراغات التالية :

47 = + 13

26 = 74 -

42 = 7 - x 7

17 = 5 - + 17

تمرين 3 أكمل بإحدى العلامتين > أو < :

0,03 1 ; 15,35 15,4 ; 7,3 7,29

تمرين 4 أحصر كل عدد عشري بين عددين صحيحين طبيعيين متتاليين.

..... < 15,97 < ; < 7,8 <

$\frac{17}{5} = 1 + \frac{\dots}{5}$

$\frac{21}{35} = \frac{3}{\dots}$

$\frac{17}{4} = 4 + \frac{\dots}{4}$

$\frac{13}{5} = \frac{\dots}{10}$

تمرين 5 أتمم الفراغات التالية :


تمرين 6 ارسم قطعة مستقيم [أب] طولها 6 سم.

* ابن الموسط العمودي لـ [أب] يقطعها في م .

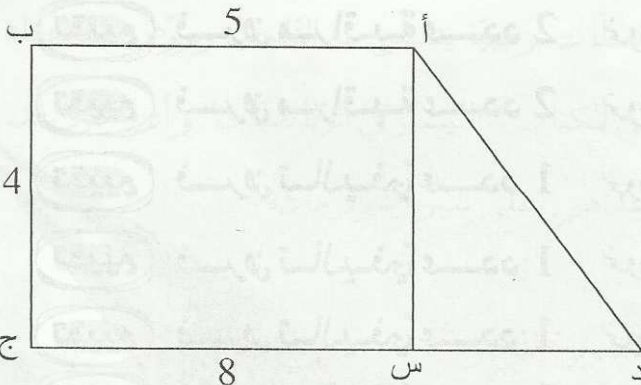
(أ) ماذا تمثل م بالنسبة للقطعة [أب] ؟

(ب) احسب م ب :

(ج) ارسم الدائرة التي قطرها [أب]. ما هو شعاعها ؟



تمرين 7 لاحظ الرسم التالي :



(أ) احسب مساحة شبه المنحرف أ ب ج د .

(ب) احسب مساحة المستطيل أ ب ج س .

(ج) احسب مساحة المثلث أ ج د .

تمرين 1 أكمل بإحدى العلامتين < أو > :

10 0,99

7,04 6,83

13,7 13,69

تمرين 2 ضع العلامة (X) في المكان المناسب :

العدد	413	370	321	525	734
قابل القسمة على 3					
قابل القسمة على 5					
قابل القسمة على 2					

تمرين 3 أحسب العمليات التالية :

..... = 37 + 19 + 63

..... = 2 x 7 + 3

..... = 3 + 35 - 135

..... = 5 x 3 + 2 x 5

تمرين 4 أتمم الفراغات التالية :

$\frac{13}{7} = \frac{26}{\dots}$

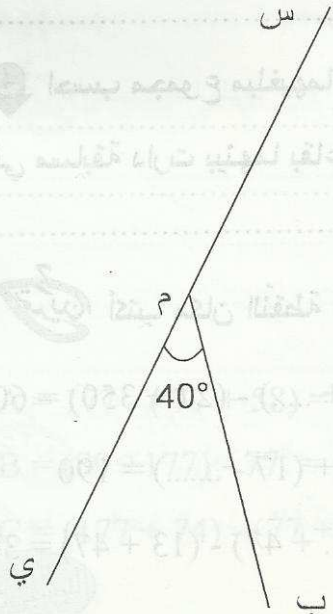
$\frac{35}{21} = \frac{5}{\dots}$

$\frac{22}{11} = \dots$

$\frac{34}{5} = \dots + \frac{14}{5}$

$\frac{19}{3} = \dots + \frac{1}{3}$

تمرين 5



1 أذكر زاوية حادة :

2 أذكر زاوية منفرجة :

3 أذكر زاوية منبسطة :

4 أحسب قياس الزاوية س م ب :

5 ابن إم ج (منصف الزاوية س م ب . ثم أحسب قياس الزاوية

س م ج

تدريب

1 احسب العبارات التالية:

$$A = (13 + 45) - (48 - 8) = \dots\dots\dots$$

$$B = (97 + 324) - (47 + 324) = \dots\dots\dots$$

$$C = (873 - 162) - 11 = \dots\dots\dots$$

$$D = 357 - (57 + 89) = \dots\dots\dots$$

$$E = (793 + 83 - 45) - (93 + 83 - 45) = \dots\dots\dots$$

2 أكتب مكان النقطة العدد الصحيح :

$$58 - (\dots\dots\dots + 8) = 30 \quad 45 - \dots\dots\dots = 17 \quad 79 + \dots\dots\dots + 1 = 100$$

3 يملك أحمد مالا قدره 37 دينارا يفوق ما تملكه أخته سلمى بـ 17 دينارا.

1 ما هو قدر المال الذي تملكه سلمى ؟

2 ما هو الفارق بين المبلغين إذا علمت أنّ أمهما أعطت لكل واحد منهما بمناسبة عيد الفطر 7 دنانير ؟

3 ما هو الفارق بين المبلغين إذا علمت أنّ كلّ واحد منهما أنفق 13 دينارا في شراء بعض اللعب ؟

4 احسب مجموع مبلغيهما الأصليين إذا علمت أنّ أحمد خسر 11 دينارا بينما ربحت سلمى نفس المبلغ

في مسابقة دارت بينهما بقاعة ألعاب ؟

3 أكتب مكان النقطة العدد الصحيح :

* $(85 - 43) - (\dots - 43) = 40$	* $(53 + 17) - (\dots + 13) = 40$	* $(87 + \dots) - (27 + 350) = 60$
* $73 - (\dots + 13) = 50$	* $(73 - \dots) - 13 = 50$	* $183 + (17 - \dots) = 190$
* $(\dots + 75) + (211 - 75) = 212$	* $99 - \dots - 9 = 80$	* $(\dots + 47) - (13 + 47) = 30$



1 أنجز العمليات التالية:

A = 3694 - 494 + 200 =

B = 3694 - (494 + 200) =

C = 3694 - (494 - 200) =

D = 3694 - 494 - 200 =

2 قارن بين A و C ثم بين B و D .

3 أكمل بالعدد المناسب .

1262 - = 162 ; - 34 = 136 ; 1900 + = 2700

4 ما هو العدد الأقرب إلى المجموع التالي 213254 + 735243 من بين الأعداد التالية :

1000000 أو 10000 أو 10000000



حافلة تقل 296 مسافرا نزل منها في المحطة الأولى 16 مسافرا وفي المحطة الثانية نزل 180 مسافرا دون أن يصعد أي مسافر من المحطتين .

1 احسب عدد المسافرين المتبقي بالحافلة بطريقتين .

ط 1 -

ط 2 -

2 في المحطة الثالثة نزل 58 مسافرا وصعد 28 مسافرا .

* احسب عدد المسافرين المتبقي بالحافلة بطريقتين .

ط 1 -

ط 2 -



لاحظ أن : 177 - 77 = 100

* استعمل هذه النتيجة لحساب العبارات التالية :

A = 177 - (77 + 58) =

B = (89 + 177) - 77 =

C = (177 + 74) - (77 + 74) =

تمرين 1 قاعة محاضرات بها 35 صفاً يوجد بكل صف 11 مقعداً.

1 ما هو عدد المقاعد ؟

2 غير ترتيب المقاعد فأصبح بالقاعة 11 صفاً يوجد بكل صف 35 مقعداً. هل تغير عدد المقاعد ؟ علّل جوابك.

تمرين 2

1 احسب العبارات التالية.

* A = $4 \times 7 \times 25 \times 7 =$ * B = $2 \times 13 \times 5 =$

* C = $37 \times 67 \times 0 =$ * D = $17 \times 1 \times 7 =$

2 انشر ثم احسب.

* E = $34 \times (1 + 10) =$

* F = $13 \times (2 + 10) + 13 =$

* G = $50 \times (100 - 2) =$

* H = $17 \times (1 + 2 + 3) =$

3 فكك ثم احسب.

* I = $8 \times 7 + 12 \times 7 =$

* J = $53 \times 13 - 53 \times 3 =$

* H = $57 \times 9 + 57 =$

* K = $49 \times 49 + 49 \times 51 =$

تمرين 3 احسب ما يلي.

* $5 + 4 \times (14 - 4) =$

* $13 \times 2 + 5 \times 10 =$

* $(7 + 4) \times 2 + 3 \times (5 - 3) =$

* $13 \times (2 + 5) \times 10 =$

تمرين 4 يوجد في إحدى العمارات بمدينة العراق 23 طابقاً بكل طابق 5 شقق.

1 ما هو العدد الجملي للشقق ؟

2 شقق لم يتم اكترؤها. احسب عدد الشقق المتبقية بطريقتين مختلفتين.

* الطريقة الأولى :

* الطريقة الثانية :

تمرين

1 أكمل بما يناسب.

* $77 \times 101 = 77 \times (100 + \dots) = 77 \times 100 + \dots = 7700 + \dots = \dots$

* $64 \times 99 = 64 \times (100 - \dots) = 64 \times 100 - \dots = 6400 - \dots = \dots$

2 احسب العبارات التالية مستعملا الطريقة السابقة.

* $A = 50 \times 52 = \dots$

* $B = 13 \times 97 = \dots$

* $C = 17 \times 21 = \dots$

* $D = 43 \times 102 = \dots$

تمرين

1 أكمل بما يناسب.

* $7 \times 98 + 14 = 7 \times 98 + 7 \times \dots = 7 \times (\dots + 2) = 7 \times \dots = \dots$

* $13 \times 7 + 39 = 13 \times 7 + 13 \times \dots = 13 \times (\dots + \dots) = 13 \times \dots = \dots$

2 احسب متبعا نفس الطريقة.

* $E = 11 \times 13 + 11 \times 5 + 22 = \dots$

* $F = 79 \times 13 - 79 \times 11 = \dots$

* $G = 49 \times 49 + 49 \times 50 + 49 = \dots$

* $H = 735 \times 97 - 735 \times 96 = \dots$

تمرين

قسم به 33 تلميذا. دفع كل تلميذ 7 دنانير مقابل الترسيم و 3 دنانير مقابل اشتراكه في إحدى النوادي.

أحسب بطريقتين المبلغ المدفوع من طرف كل تلاميذ القسم.

ط 1

ط 2

تمرين 8 احسب العبارات التالية :

* $I = 7 + 3 \times 5 - 2 = \dots$

* $J = 7 + 3 \times (5 - 2) = \dots$

* $K = (7 + 3) \times 5 - 2 = \dots$

1 تمرين
قطعة أرض قُسمت إلى ثلاثة أجزاء. كل جزء به 3 منازل وكل منزل به 3 غرف.
ما هو العدد الجملي للغرف بهذه المنازل ؟ :

2 تمرين
1 احسب العبارات التالية :

$A = 2^3 + 3^2$ =	$B = 7^2 + 13^0$ =	$C = 2^2 + 5^2$ =	$D = (3^2 - 2^3)^{17} + 17^1$ =
----------------------------	-----------------------------	----------------------------	--

2 أكمل بالعدد المناسب :

$5^3 \times 5 = 5^{\dots}$	$(2^3 \times 3^{\dots})^2 \times 3^2 = 6^6$	$(7^4)^{\dots} = 7^8$	$13^3 \times 13^{\dots} = 13^8$
----------------------------	---	-----------------------	---------------------------------

3 تمرين
1 أكتب في صيغة قوة عددا صحيحا طبيعيا دليله مخالف لـ 1.

$* 2^3 \times 5^3 = \dots$	$* (5^3)^2 \times 5^4 = \dots$	$* 5^9 \times 5^2 = \dots$	$* (5^3)^2 \times 5^4 = \dots$
$* (2^3)^2 \times (5^2)^3 = \dots$	$* 25^4 \times 125 = \dots$	$* 17 \times 17^3 = \dots$	$* 2^5 + 2^5 = \dots$

2 أكتب في صيغة قوة للعدد 10.

$(2^2 \times 5)^3 \times 5^3 = \dots$	$25^4 \times 4^2 \times 2^4 = \dots$	$2^4 \times 5^4 = \dots$	$10^3 \times 100^4 = \dots$
---------------------------------------	--------------------------------------	--------------------------	-----------------------------

3 فكك ثم أكتب في صيغة قوة.

$A = 7^3 + 6 \times 7^3 = \dots$ =	$C = 2^3 \times 5 - 2^3 \times 3 = \dots$ =
$B = 27 + 3^3 \times 2 = \dots$ =	$D = 3 \times 10^3 + 7 \times 1000 = \dots$ =

4 تمرين
1 أجب بصواب أو خطأ :

$* (2^3)^4 = 2^{12}$	$* 2^3 \times 2^2 = 2^6$	$* 1^{35} = 35$
$* 10^4 = 10000$	$* 3^2 = 6$	$* (5^2)^3 = 5^5$
$* 2^3 \times 2^3 = 2^6$	$* 0^{17} = 0$	$* 5^3 + 5^4 = 5^7$

2 أكمل بالعدد المناسب :

$100 \times 10^{\dots} = 10^7$	$1000 \times 10^2 = 10^{\dots}$	$170000 = 17 \times 10^{\dots}$
--------------------------------	---------------------------------	---------------------------------

تمرين

1 احسب مساحة المستطيل والمربع مقدما النتيجة في صيغة قوة لعدد صحيح طبيعي .

(أ) مستطيل طوله 7^4 وعرضه 7^2 :

(ب) مربع طول ضلعه 3^5 :

2 مربع مساحته 2^6 . ماهو طول ضلعه ؟

تمرين

1 اكتب في صيغة قوة العبارات التالية.

* $A = (7^3)^2 \times (2^2)^3 =$

* $B = 81 \times 3^3 =$

* $C = (2^2 \times 3)^4 \times 9^2 =$

2 احسب العبارات التالية.

* $D = 5^2 + 3 \times (2^2 - 2) =$

* $E = (7 - 5)^2 + 5^2 =$

* $F = 3 \times 5^2 - 3^2 \times 5 =$

تمرين

1 أكمل الجدول التالي :

.....	7	0	a
36	25	1	a^2

2 بين أن كل عدد من الأعداد التالية هو مربع كامل :

* $3^2 \times 4 =$

* $75 \times 3 =$

* $20 \times 5 =$

* $98 \times 8 =$

3 استنتج أن : $3^2 \times 4 \times 75 \times 3 \times 20 \times 5 = 30^4$

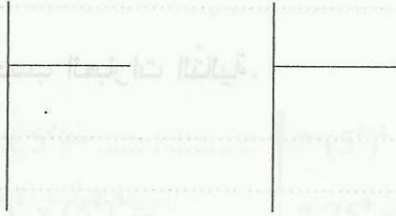


يملك فلاح أرضا مساحتها 750 مترا مربعا يريد تقسيمها إلى قطع مساحة الواحدة 20 مترا مربعا.

1 هل يمكنه ذلك؟ علّل جوابك.

2 ما هو عدد القطع المقسمة؟

3 ماهي مساحة الأرض المتبقية؟



1 أنجز القسمة الإقليدية لـ: 743 على 7 و 17 على 7

$$* 743 = \dots$$

$$* 17 = \dots$$

2 لاحظ أن: $760 = 743 + 17$ ثم استنتج القسمة الإقليدية لـ 760 على 7 دون إنجاز عملية القسمة.

3 ضع علامة (x) في المكان المناسب:

العدد	745	3510	7422	878
قابل القسمة على 2				
قابل القسمة على 3				
قابل القسمة على 5				
قابل القسمة على 9				

1 أوجد المجموعات التالية:

$$D_{20} = \dots \quad D_{12} = \dots \quad D_{17} = \dots \quad D_{20} \cap D_{12} = \dots$$

2 اذكر من بين الأعداد التالية الأعداد غير الأولية معللا جوابك. 123 ; 47 ; 49 ; 75 ; 43



1 اذكر الكتابة التي تمثل قسمة إقليديّة لـ 123 على 12 .

$$123 = 12 \times 11 - 8$$

$$123 = 12 \times 10 + 3$$

$$123 = 12 \times 9 + 15$$

2 هل تمثل هذه الكتابة قسمة إقليديّة؟ علّل جوابك . $94 = 14 \times 6 + 10$

أكمل الجدول :

العدد	باقي القسمة على 3	باقي القسمة على 5	باقي القسمة على 2
746			
561			
743			

6 ضع مكان النّقاط الأرقام المناسبة حيث يكون العدد قابلاً للقسمة على 5 و 3 في آن واحد . (قدّم كلّ الحلّول).

. 8 5 .

7 . 3 .

6 5 . .

7 . .

لاحظ الرسم حيث : $AB = 2 \text{ cm}$ و $AC = 8 \text{ cm}$

1 ابن Δ الموسط العمودي لـ $[BC]$



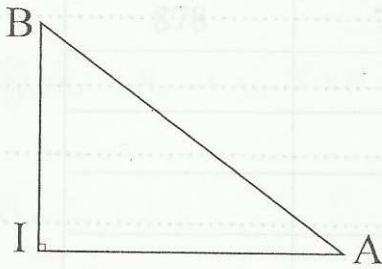
يقطع $[BC]$ في I ثم احسب BI و AI .

2 عين E من Δ بحيث $EI = 4 \text{ cm}$. قارن بين EB و EC معللاً جوابك.

3 ابن F بحيث يكون المستقيم (AE) هو الموسط العمودي لـ $[FB]$. ثم بين أن : $EC = EF$.

لاحظ الرسم حيث : $IA = 4 \text{ cm}$ و $AB = 5 \text{ cm}$ و $(IB) \perp (AI)$

1 ابن C بحيث I منتصف $[BC]$. ثم بين أن (AI) هو الموسط العمودي لـ $[BC]$.



2 احسب AC . معللاً جوابك.

3 ابن Δ الموسط العمودي لـ $[AI]$ ثم بين أن $\Delta (IB) \parallel$.

4 Δ يقطع $[AI]$ في E . احسب AE معللاً جوابك.



لاحظ الرّسم حيث : $AB = 4 \text{ cm}$

- 1 ابن الدائرة \mathcal{C} مركزها A وشعاعها 3 صم والدائرة \mathcal{C}' مركزها B وشعاعها 2 صم.
 \mathcal{C} و \mathcal{C}' يتقاطعان في E و F .

* بيّن أن (AB) هو المتوسط العمودي لـ [EF] :

- 2 (AB) يقطع [EF] في I . ماذا تمثّل I بالنسبة لـ [EF] ؟

- 3 ابن Δ المارّ من E والعموديّ على (EF) .

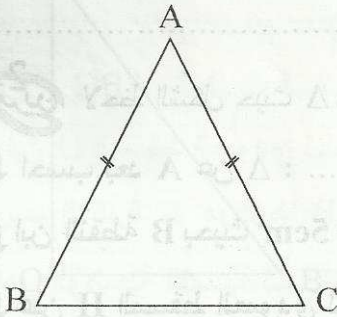
ثمّ بيّن أن $\Delta \parallel (AB)$.



لاحظ الرّسم حيث ABC مثلث متقايس الضلعين قمته الرئيسيّة A .

- 1 ابن E منتصف [BC] ثمّ قارن بين EB و EC .

- 2 بيّن أن (AE) هو المتوسط العموديّ لـ [BC] .



- 3 ابن Δ المتوسط العموديّ لـ [AC] يقطع [AE] في I .

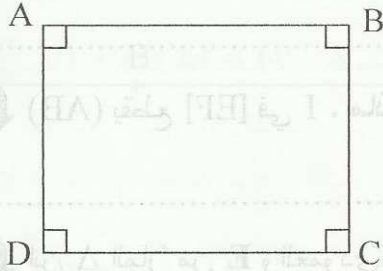
ثمّ بيّن أن : $IB = IA$.

- 4 ابن النّقطة F من [AC] بحيث : $AF = BF$

ثمّ بيّن أن : $(AB) \perp (IF)$.



تمرين 1 لاحظ الشكل حيث ABCD مستطيل طوله $AB = 4\text{cm}$ و عرضه $BC = 3\text{cm}$.



1 ما هو بعد A عن (DC) و بعد B عن (AD).


2 ابن H المسقط العمودي لـ A على (BD).

ثم احسب بعد A عن (BD). (استعمل أداة قياس).

3 ابن K بحيث CK هو بعد C عن (BD). ثم بين أن $(AH) \parallel (CK)$.

4 ما هو البعد (AH) و (CK). (استعمل أداة قياس).

تمرين 2 لاحظ الشكل حيث Δ مستقيم و A نقطة منه.



1 احسب بعد A عن Δ .

2 ابن النقطة B بحيث $AB = 5\text{cm}$ و بعد B عن Δ هو 4 صم.

3 عين H المسقط العمودي لـ B على Δ .

ثم احسب بعد A عن (BH). (استعمل أداة قياس).

4 ارسم Δ' المار من B و العمودي على (BH).

ثم بين أن $\Delta' \parallel \Delta$.

5 ما هو البعد بين Δ و Δ' ؟

تدريب 3 لاحظ الرسم حيث Δ مستقيم و A نقطة من المستوي.

1 ابن H بحيث AH هو بعد A عن Δ .


2 ابن B بحيث بعد B عن Δ هو 3 صم.

و B لا تنتمي إلى المستقيم (AH).

3 عيّن النقط K المسقط العمودي لـ B على Δ .

ثم بيّن أن $(BK) \parallel (AH)$.

4 ما هو البعد بين (AH) و (BK) ؟



تدريب 4 لاحظ الرسم حيث $(OB) \perp (OA)$ و $OA = 4\text{cm}$ و $OB = 3\text{cm}$.

1 ماهو بعد B عن المستقيم (OA) ؟ علّل جوابك.

2 ابن Δ المتوسط العمودي لـ [OA] يقطعها في I.

أ) بيّن أن $\Delta \parallel (OB)$.

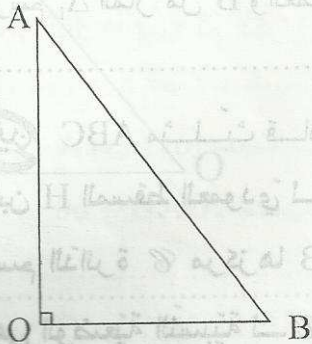
ب) ماهو البعد بين Δ و (OB) ؟

ج) ماهو بعد B عن Δ ؟

3 أحسب مساحة المثلث AIB.


4 عيّن النقطه E من Δ بحيث $IE = 5\text{cm}$.

ثم أحسب مساحة المثلث IBE.



تمرين 1
[OA] قطعة مستقيم بحيث : $OA = 4$ و B منتصف [OA] و H منتصف [AB]

- 1 ارسم الدائرة \mathcal{C} مركزها O وشعاعها OH.
* احسب قياس شعاعها OH.

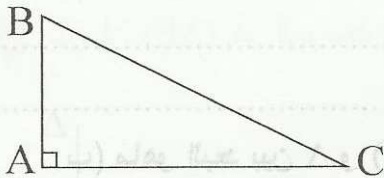


- 2 ارسم المستقيم Δ المار من A والعمودي على (OA).
* ما هي الوضعية النسبية لـ Δ و \mathcal{C} ؟ علّل جوابك.

- 3 ارسم Δ' المتوسط العمودي لـ [AB]. ما هي الوضعية النسبية لـ Δ' و \mathcal{C} ؟ علّل جوابك.

- 4 ارسم Δ_1 المار من B والعمودي على [OA]. ما هي الوضعية النسبية لـ Δ_1 و \mathcal{C} ؟ علّل جوابك.

تمرين 2
ABC مثلث قائم في A :



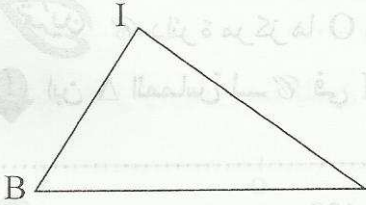
- 1 ابن H المسقط العمودي لـ A على [BC].
ثم ارسم الدائرة \mathcal{C} مركزها B وشعاعها BH.
* ما هي الوضعية النسبية لـ \mathcal{C} و (AH)؟ علّل جوابك.

- 2 (BC) يقطع \mathcal{C} في نقطة ثانية E. ابن المماس Δ لـ \mathcal{C} في E.
(أ) بين أن B منتصف [EH].
(ب) بين أن $\Delta \parallel (AH)$.

- 3 (أ) أوجد المجموعة التالية : $\mathcal{C} \cap (BC) =$
(ب) ما هي الوضعية النسبية لـ \mathcal{C} و (BC)؟ علّل جوابك.

تمرين 3 لاحظ الرسم حيث IBC مثلث.

1 ابن الدائرة \mathcal{C} مركزها I مماسة لـ BC في H. ماهو شعاعها؟



2 ماهو نوع المثلث IHC؟ علّل جوابك.

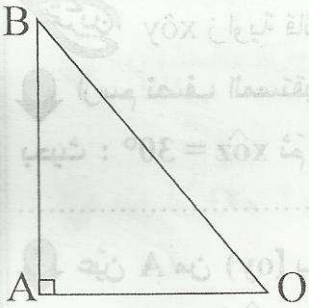
3 المستقيم (IH) يقطع الدائرة \mathcal{C} في نقطة ثانية K.

ابن Δ المماس لـ \mathcal{C} في K ثم بين أن $\Delta \parallel (BC)$.

تمرين 4 لاحظ الرسم حيث : $\widehat{OAB} = 90^\circ$ و $OA = 3\text{cm}$.

1 ابن الدائرة \mathcal{C} مركزها O وشعاعها 2 صم.

* ماهي الوضعية النسبية لـ \mathcal{C} و (AB)؟ علّل جوابك.



2 ابن Δ المتوسط العمودي لـ [OA].

* ماهي الوضعية النسبية لـ Δ و \mathcal{C} ؟ علّل جوابك.

3 Δ يقطع \mathcal{C} في نقطتين E و F. احسب AE.

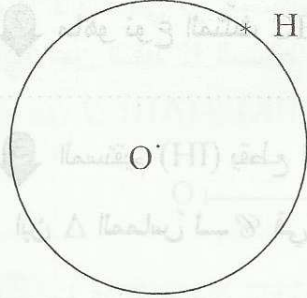
تمرين 5 أكمل الجدول التالي :

80 cm	15 cm	13 cm	شعاع الدائرة
80 cm	12 cm	17 cm	بعد مركز الدائرة عن المستقيم
			الوضعية النسبية للدائرة والمستقيم



دائرة مركزها O وشعاعها 2 صم. H نقطة من \mathcal{C} .

1 ابن Δ المماس لـ \mathcal{C} في H ثم احسب بعد O عن Δ . علّل جوابك. \widehat{HHI} ؟



2 عيّن E من Δ بحيث $\widehat{HOE} = 40^\circ$ و F نقطة تقاطع [OE] و \mathcal{C}

ثم أكمل الجملة التالية: $\widehat{O\hat{H}F}$ و $\widehat{F\hat{H}E}$ و.....

3 ابن النقطة K من \mathcal{C} بحيث $\widehat{E\hat{O}H}$ و $\widehat{E\hat{O}K}$ متجاورتان ومتكاملتان.

(أ) احسب $\widehat{E\hat{O}K}$.


(ب) بيّن أن O منتصف [HK]:



xoy زاوية قائمة.

1 ارسم نصف المستقيم [oz] من الزاوية xoy.

بحيث: $\widehat{x\hat{o}z} = 30^\circ$ ثم أذكر زاويتين مجاورتين ومتتامتين.



2 عيّن A من [oy] بحيث: $OA = 2\text{cm}$ و B من [ox].

بحيث: $\widehat{O\hat{A}B} = 60^\circ$. احسب $\widehat{O\hat{B}A}$.

3 عيّن C من (oy) مخالفة لـ A بحيث: $OC = 2\text{cm}$.

* ماذا تمثل النقطة O بالنسبة لـ [AC]? علّل جوابك.

4 ارسم الدائرة \mathcal{C} التي مركزها B وشعاعها AB.

(أ) بيّن أن C نقطة من \mathcal{C} .

(ب) ماهي الوضعية النسبية لـ (AC) و \mathcal{C} ? علّل جوابك.

5 بيّن أن $\widehat{O\hat{A}B}$ و $\widehat{C\hat{O}Z}$ متكاملتان.

تمرين

نعتبر الرسم أسفله.

1 أ) ارسم $[oz]$ بحيث $x\hat{o}z = 50^\circ$.

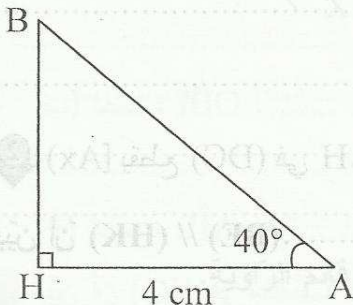
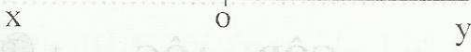
ب) أكمل الجملة التالية :

 $x\hat{o}z$ و $y\hat{o}z$ ج) احسب $y\hat{o}z$:2 أ) ارسم $[or]$ بحيث : $x\hat{o}z$ و $r\hat{o}x$ متتامتان ومتجاورتان.ب) احسب $r\hat{o}x$:

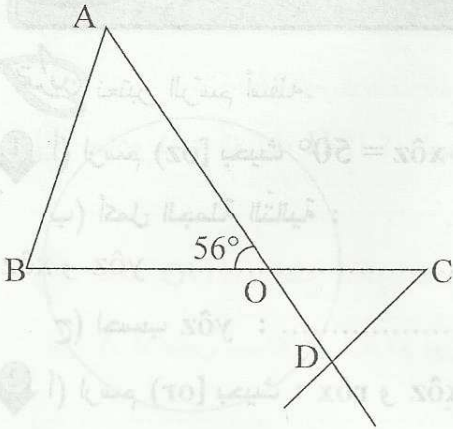
تمرين

1 ارسم زاوية $x\hat{A}y$ بحيث : $x\hat{A}y = 70^\circ$.2 ابن $[Az]$ منصف $x\hat{A}y$ ثم احسب $x\hat{A}z$:3 ارسم $[Ar]$ بحيث $x\hat{A}r$ مكملّة لـ $x\hat{A}y$ ثم احسب $x\hat{A}r$.4 ابن $[Az']$ منصف $x\hat{A}r$ ثم احسب $x\hat{A}z'$.5 بين أنّ $(Az) \perp (Az')$.

تمرين

AHB مثلث قائم في H بحيث : $H\hat{A}B = 40^\circ$ و $AH = 4\text{cm}$.1 ارسم $[AY]$ بحيث $[AB]$ منصف $H\hat{A}Y$.ثم احسب $H\hat{A}Y$:2 ارسم المستقيم المارّ من B والعمودي على (AY) في K.بين أنّ : $BK = BH$:3 تحقّق بأداة قيس أنّ $AK = 4\text{cm}$. ثم بين أنّ $[BA]$ هو منصف الزاوية $H\hat{B}K$:

تمرين 14
لاحظ الرسم حيث : $\widehat{A\hat{O}B} = 56^\circ$



1 اذكر زاويتين متكاملتين .

2 اذكر زاويتين متقابلتين بالرأس .

3 احسب $\widehat{A\hat{O}C}$ و $\widehat{C\hat{O}D}$.

4 ابن منصف الزاوية $\widehat{A\hat{O}B}$ يقطع $[AB]$ في I ثم احسب $\widehat{A\hat{O}I}$.

5 ابن منصف الزاوية $\widehat{C\hat{O}D}$ يقطع $[CD]$ في J ثم احسب $\widehat{C\hat{O}J}$.

6 بين أن O و I و J على استقامة واحدة .

تمرين 15
لاحظ الشكل حيث ABCD مستطيل .



1 ابن $[Ax]$ منصف الزاوية $\widehat{B\hat{A}D}$ يقطع المستقيم (BC) في E

ثم ابن F المسقط العمودي لـ E على المستقيم (AD) .

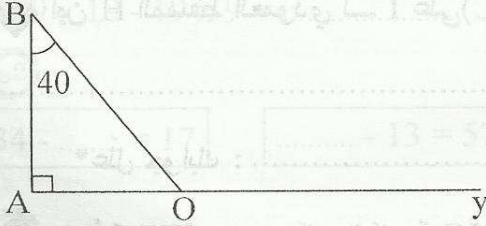
* بين أن : $EF = BE$.

2 $[Ax]$ يقطع (DC) في H . ابن K من (AB) بحيث $HD = HK$.

بين أن $(BE) \parallel (HK)$.

تدريبات
نعتبر الرسم التالي حيث \hat{AOB} مثلث قائم في A و $\hat{ABO} = 40^\circ$.

1 احسب \hat{BOy} و \hat{AOB} .



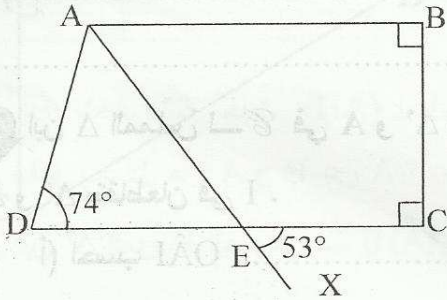
2 ماذا تمثل \hat{BOy} بالنسبة لـ \hat{AOB} ؟

3 ابن $[Oz]$ منصف \hat{BOy} ثم احسب \hat{AOz} .

4 ابن $[Bt]$ بحيث $[BO]$ منصف \hat{ABt} . ثم عيّن E تقاطع (Bt) و (Oz) ثم احسب \hat{ABE} و \hat{OEB} .

تدريبات
نعتبر الرسم التالي حيث: $\hat{ADE} = 74^\circ$ و $\hat{CEX} = 53^\circ$.

1 احسب \hat{AED} و \hat{AEC} مغلًا جوابك.

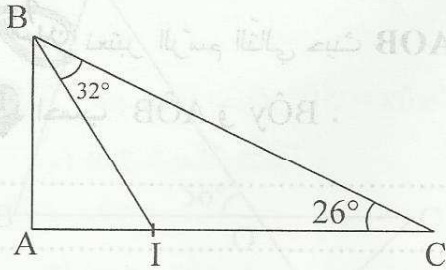


2 احسب \hat{DAE} و \hat{BAE} مغلًا جوابك.

3 ماذا يمثل $[Ax]$ بالنسبة لـ \hat{BAD} . علّل جوابك.

4 ابن $[Dy]$ منصف \hat{ADE} يقطع (Ax) في F . ثم بين أن المثلث ADF قائم الزاوية.

تمرين 3 تأمل الرسم التالي حيث : $\widehat{IBC} = 32^\circ$ و $\widehat{ACB} = 26^\circ$ و $IA = 1,6\text{cm}$ و $BC = 6\text{cm}$ و [BI] منصف \widehat{ABC} .



1 احسب \widehat{ABC} و \widehat{BAC} . ثم استنتج نوع المثلث ABC .

2 ابن H المسقط العمودي لـ I على (BC) . ثم احسب IH .

* علّل جوابك :

3 هل أن (IH) هو منصف الزاوية \widehat{BIC} ؟ علّل جوابك :

4 احسب مساحة المثلث IBC :

تمرين 4 أرسم دائرة \mathcal{C} مركزها O وشعاعها 2 صم.

1 عيّن على الدائرة \mathcal{C} نقطتين A و B

بحيث $\widehat{AOB} = 40^\circ$ ثم قارن بين OA و OB .

2 ابن Δ المماس لـ \mathcal{C} في A و Δ' المماس لـ \mathcal{C} في B

Δ و Δ' يتقاطعان في I .

(أ) احسب \widehat{OAI} :

(ب) احسب \widehat{OBI} :

(ج) احسب \widehat{AIB} :

3 بيّن أن (IO) هو منصف الزاوية \widehat{AIB} .



٦٤

$$* 13 + 25 + 7 + 75 + 17 = \dots\dots\dots$$

$$* (135 - 119) + (35 + 119) = \dots\dots\dots$$

$$* 19 \times 19 - 19 \times 9 = \dots\dots\dots$$

أحسب ما يلي :

$$* (37 + 1235) - (17 + 1235) = \dots\dots\dots$$

$$* 11 \times 5 \times 3 \times 2 = \dots\dots\dots$$

٦٢

$$34 - \dots\dots = 17$$

$$\dots\dots - 13 = 57$$

$$57 - (\dots\dots + 10) = 40$$

$$(57 - \dots\dots) - 10 = 40$$

أكمل بالعدد المناسب في كل حالة.

٦٤

$$* B = 13 \times (100 + 10 + 1)$$

$$= \dots\dots\dots$$

$$= \dots\dots\dots$$

أنشر ثم احسب العبارتين التاليتين.

$$* A = 17 \times (2 + 10) + 3$$

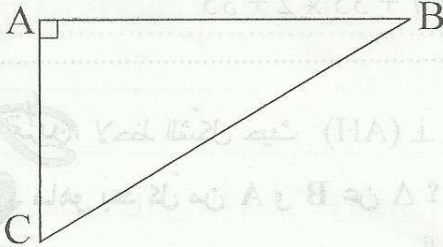
$$= \dots\dots\dots$$

$$= \dots\dots\dots$$

٦١٠

ABC مثلث قائم الزاوية في A بحيث $AB = 5\text{cm}$ و $AC = 3\text{cm}$ ١ ابن Δ المتوسط العمودي لـ [BC] يقطع (AB) في D.

قارن بين BD و DC . معطاً جوابك.



٢ ابن H المسقط العمودي لـ A على (BC).

أ احسب بعد A عن (BC). استعمل أداة قيس.

ب) بيّن أن $\Delta(AH) \parallel \Delta$.٣ ابن E من (BC) بحيث H منتصف [EC]. ثم بيّن أن $AE = 3\text{cm}$.٤ أ) ابن R بحيث بعد A عن Δ هو AR.

ب) ماهي الوضعية النسبية لـ (AR) و (BC)؟



نيلنا ما ليا بسا

تمرين 2 ضع علامة (x) أمام المقترح السليم الوحيد.



$$67 + 16 \times 0 = 83$$



$$175 - (75 - 57) = 157$$



$$(293 + 87) - (93 + 78) = 200$$



تمرين 4 احسب العبارات التالية.

* C = 17 - 7 x 2 =

* A = 3 x 7 + 3 =

* D = (9 - 8) x (2 + 3) x 5 + 2 =

* B = 57 x (6 + 4) + 1 =



تمرين 6 فكك العبارات التالية ثم احسب.

* G = 39 x 39 + 39 x 61

* E = 57 x 3 + 57 x 7

=

=

* H = 37 x 3 + 37 x 6 + 37

* F = 13 x 99 + 13

=

=



تمرين 10 [AB] قطعة مستقيم حيث AB = 6cm

1 ابن Δ المتوسط العمودي لـ [AB] يقطعها في I. ماذا تمثل I بالنسبة لـ [AB].

.....

2 ماهو بعد A عن Δ ؟

.....

3 عيّن النقطة E من Δ بحيث : IE = 2cm .

ثم قارن بين EA و EB معللاً جوابك .

.....

4 ابن Δ' المارّ من E والعمودي على Δ .

ثم بيّن أنّ $\Delta' \parallel (AB)$.

.....

5 ماهو البعد بين Δ' و (AB) ؟ علّل جوابك.

.....

6 عيّن H من Δ' بحيث EH = 4cm . ثم احسب مساحة المثلث ABH .

.....



64

احسب العبارات التالية.

* $A = (735 + 69) + (75 - 69) =$

* $B = 37 + 13 \times 8 + 2 =$

* $C = 13 + 7 \times (5 - 2) =$

* $D = 33 \times 12 - 33 \times 2 =$

63

ضع علامة (x) تحت المقترح السليم الوحيد.

$53 - 13 \times 2 = 80$

$273 - 60 - 13 = 200$

$177 + 13 = 200$

$123 - (13 - 10) = 100$

63

لاحظ أن: $73 \times 63 = 4599$

* أستعمل هذه النتيجة لحساب العبارتين H و K.

* $H = 73 \times (33 + 30) + 1 =$

* $K = 63 \times (73 + 2) - 125 =$

610

AIC مثلث قائم في I بحيث: $AI = 3\text{cm}$ و $AC = 5\text{cm}$

1 ابن B بحيث I منتصف [AB]. ثم بين أن (IC) هو المتوسط العمودي لـ [AB].



2 احسب IB و BC معللاً جوابك.

3 ابن Δ المتوسط العمودي لـ [AC] يقطع [IC] في E.

بين أن $EC = EB$:

4 ابن H المسقط العمودي لـ E على (BC) ثم بين أن H هي منتصف [BC].

تمرين 1 أكمل بـ : = أو ≠ .

3 $2^3 \dots 6$

$3^5 \times 2^4 \dots 6^9$

$2^6 \dots (2^3)^3$

$3 \times 4^2 \dots 48$

$(5^2)^3 \dots (5^3)^2$

$1000 \times 10^3 \dots 10^8$

تمرين 2 احسب العبارات التالية.

* $A = 2^3 \times 3 + 1 = \dots$

* $B = 5 + 5^2 = \dots$

* $C = 7^0 \times 3^2 = \dots$

* $D = 5^2 + 2 \times (3^2 - 4)^2 = \dots$

= \dots

تمرين 3 أكتب في شكل قوة للعدد 10 .

* $E = 2^4 \times 10^5 \times 5^4 = \dots$

* $F = 25^2 \times 8^3 \times 5^5$

* $G = 3 \times 10^2 + 700 = \dots$

= \dots

= \dots

تمرين 4 [AB] قطعة مستقيم بحيث AB = 4cm

1 ابن Δ المتوسط العمودي لـ [AB]. يقطعها في I

ثم عين E من Δ تبعد عن (AB) 3صم. بين أن : EB = EA

2 ابن المستقيم Δ' المار من E والعمودي على Δ .

ثم بين أن $\Delta' \parallel (AB)$.

3 ارسم دائرة \mathcal{C} مركزها E ومماسة للمستقيم (AB).

(أ) ما هي نقطة التماس ؟

(ب) \mathcal{C} تقطع Δ' في نقطتين M و N . ماهو بعد كل من M و N عن Δ .

(ج) أستنتج أن E منتصف [MN].

4

أجب بـ (صواب) أو (خطأ)

* $6^7 \times 6 = 6^8$ * $2^5 \times 3^2 = 6^7$ * $(7^3)^0 = 1$ * $2^3 \times 2^2 = 2^5$
* $3 \times 10^3 = 300$ * $2500 = 25 \times 10^2$ * $10\ 000 = 10^3$ * $1000^2 = 10^5$

3

أحسب العبارات التالية.

* $A = 5 \times 2^3 - 4^0 = \dots\dots\dots$ * $C = 10^4 - 10^3 = \dots\dots\dots$
* $B = 3 + 7^2 = \dots\dots\dots$ * $D = 3 + 2^2 \times (3^2 + 2)^2 = \dots\dots\dots$
=

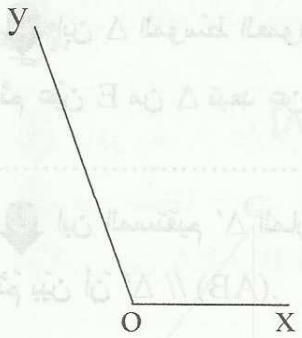
3

أكتب في شكل قوة لعدد صحيح طبيعي دليله مخالف لـ 1.

* $6^3 \times 2^4 \times 3^4 = \dots\dots\dots$ * $7^2 \times 7^3 = \dots\dots\dots$
* $(2^2 \times 3)^3 \times 27 = \dots\dots\dots$ * $32 \times (2^5)^3 = \dots\dots\dots$

10

نعتبر الرسم التالي لزاوية : $\hat{xOy} = 110^\circ$



1 ابن (oz) منتصف الزاوية \hat{xOy} ثم أحسب \hat{yOz} .

2 ارسم [ou] بحيث تكون الزاوية \hat{uOy} مكملة ومجاورة لـ \hat{yOz} .

* احسب \hat{uOy} :

3 ارسم [ov] منتصف الزاوية \hat{uOy} . احسب \hat{vOz} .

.....

4 عيّن نقطة A على [ov] بحيث $OA = 4\text{cm}$ ثم ابن Δ

الموسط العمودي لـ [OA]. Δ يقطع [OA] في I ويقطع (oy) في J.

* احسب بعد النقطة A عن المستقيم Δ .

5 ارسم دائرة \mathcal{C} مركزها A وشعاعها 1,5 صم.

6 * ماهي الوضعية النسبية للدائرة \mathcal{C} والمستقيم Δ ؟ علّل جوابك.

7 بين أن $\Delta \parallel (oz)$ ثم احسب البعد بينهما.



ربط له بسما

تدرب احسب.

$(7 - 4)^3 = \dots\dots\dots$

$1^{75} = \dots\dots\dots$

$2^5 = \dots\dots\dots$

$3^3 - (7 - 4)^3 + 215^0 = \dots\dots\dots$



$2^3 \times 5^2 = \dots\dots\dots \times 10^{\dots\dots\dots}$

$(5^{\dots\dots\dots})^4 = 5^{24}$

$7^3 \times 7^{\dots\dots\dots} = 7^9$

1 عوض النقاط بالعدد المناسب.

2 أكتب في صيغة قوة دليلها مخالف لـ 1.

$(2^3 \times 5^2)^3 \times 5^3 = \dots\dots\dots$

$7^2 \times 25 = \dots\dots\dots$



أكتب في صيغة مبسطة.

$* 2 \times 3^3 \times 3 \times 2^4 = \dots\dots\dots$

$* (5^2)^3 \times 2^{10} \times 5^5 = \dots\dots\dots$

1 ارسم زاوية $[ox, oy]$ حيث $\hat{xoy} = 40^\circ$.* ارسم نصف المستقيم (oz) بحيث $[ox, oy]$ و $[oy, oz]$ زاويتان متجاورتان ومتتامتان.* أحسب \hat{yoz} .2 عيّن النقطة A على (ox) حيث $OA = 3$.(أ) ارسم دائرة \mathcal{C} مركزها A وشعاعها OA تقطع (ox) في نقطة ثانية B.
(ب) ما هي الوضعية النسبية للدائرة \mathcal{C} والمستقيم (oz) ؟ علّل جوابك.3 ابن Δ المماس لـ \mathcal{C} في B ثم بين أن $\Delta \parallel (oz)$.4 ماهو البعد بين Δ و (oz) ؟



فرض مراقبة عدد 2



3

احسب ما يلي.

* $3 \times (2 + 2)^2 = \dots\dots\dots$ * $(2 + 3)^2 = \dots\dots\dots$ * $3^3 = \dots\dots\dots$

* $5^2 - 3 \times 2^3 = \dots\dots\dots$ * $3^2 \times 2^3 - 1^5 \times 5^1 = \dots\dots\dots$

3

أكمل بما يناسب.

$5^3 \times 5^{\dots} = 5^7$ $2^4 \times 5^7 = 5^{\dots} \times 10^{\dots}$ $10000 = 2^{\dots} \times 5^{\dots}$

* $10000^3 \dots\dots 10^7$ * $(7^3)^2 \dots\dots 7^5$ * $2^3 \times 2^2 \dots\dots 2^5$. أو = أو \neq

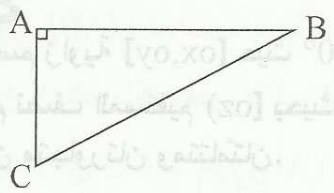
4

أكتب في صيغة قوة لعدد صحيح طبيعي دليله مخالف لـ 1 .

* $(5^2)^3 \times (3^3)^2 = \dots\dots\dots$ * $8 \times 3^3 = \dots\dots\dots$ * $10000 = \dots\dots\dots$

* $5^4 \times 20^3 \times 2 = \dots\dots\dots$ | * $14 \times 7^4 \times 16 = \dots\dots\dots$

10



لاحظ الشكل حيث ABC مثلث قائم في A.

ابن H المسقط العمودي لـ A على (BC).

* ماذا يمثل البعد AH ؟ :

ارسم الدائرة \mathcal{C} مركزها A وشعاعها AH.

* ماهي الوضعية النسبية للدائرة \mathcal{C} و (BC) ؟

.....

ابن Δ المتوسط العمودي لـ [AH] .

* ماهي الوضعية النسبية للدائرة \mathcal{C} و Δ ؟

.....

بين أن $\Delta \parallel (BC)$.



احسب العبارات التالية.

* A = (235 + 117) - (235 + 17)

=

* B = 3 + 5 x 2³

=

* C = 49 x 23 + 51 x 23

=

* D = (5 + 2) x 10²

=

* E = (325 - 113) + (25 + 113)

=

* F = 3 + 7 x 2 + 5

=

* G = (2² - 3)²

=

* H = 2² + 2 x 3²

=



أكمل بالعدد المناسب:

$(3^{-3})^3 = 1$ || $(2^{-2} \times 7^2)^3 = 14$ || $2^{-2} + 2^{-2} = 8$ || $5^3 \times \dots = 10^3$ || $(13^4)^{\dots} = 13^{20}$

أنجز القسمة الإقليدية لقسمة 223 على 17.

* 223 =

أوجد D_{12} مجموعة قواسم 12 : $D_{12} = \{ \dots \}$



اكتب في صيغة قوة لعدد صحيح طبيعي دليله أكبر من 1.

* $49 \times 14^3 \times 2^2 = \dots$

=

* $(3^2 \times 5)^4 \times (3^2 \times 5^4)^2 = \dots$

=

* $2^5 + 2^5 = \dots$

=

* $5^3 + 2^2 \times 5^3 = \dots$

=

* $3 \times 10^2 + 700 = \dots$

=

* $25^3 \times 8^2 = \dots$

=

1 ابن زاوية $[Ax, Ay]$ قياسها بالدرجة 30 ثم عيّن على $[Ax]$ النقطة B بحيث $AB = 5$ (بالصم).



2 ابن المستقيم المارّ من B والعموديّ على (Ay) الذي يقطع (Ay) في C . احسب \widehat{CBA} ثم \widehat{CBX} .

3 ابن Δ المتوسط العموديّ لـ $[BC]$. بيّن أنّ $\Delta \parallel (AC)$.

4 ابن $[Bt)$ منصف الزاوية $[Bx; Bc]$ الذي يقطع Δ في E.

بيّن أنّ $EC = EB$:

5 ابن $[Bu)$ منصف الزاوية \widehat{ABC} الذي يقطع (AC) في F.

* بيّن أنّ المثلث EFB قائم الزاوية في B.

6 ارسم الدائرة C مركزها E وشعاعها EC . ما هي الوضعية النسبية لـ \mathcal{C} و (BF) ؟ علّل جوابك.

تمرين 1 ضع علامة (x) أمام المقترح السليم (لكل سؤال مقترح سليم واحد)

1 $17 - 7 \times 2$ يساوي : 20 ، 3 ، 8

2 $9 \times 8 + 2 \times 9$ يساوي : 90 ، 99 ، 810

3 $2^3 \times 3^2$ يساوي : 6⁶ ، 72 ، 56 ، 6⁵

4 $2^3 + 2^2$ يساوي : 4⁵ ، 12 ، 4⁶ ، 2⁵

تمرين 2 احسب العبارات التالية.

* A = $3 + 5 \times 3^2 =$

* B = $(17 - 2^4)^{2000} =$

* C = $13^{14} \times 7^2 \times 0^3 =$

* D = $2^3 \times 13 + 2 \times 13 =$

* E = $793 - 85 - 8 =$

* G = $2 \times 5^2 \times 3^2 =$

* F = $(4+3)^2 \times 2 - 6^2 =$

* H = $13 \times 10^2 + 87 \times 10^2 =$

تمرين 3 نعتبر العبارة H بحيث : $H = 5^4 \times 40^2$

1 احسب : $2^3 \times 5 =$

2 اكتب في صيغة قوة العبارة H : $H =$

3 أوجد العدد الذي مربعه H : $H =$

4 أوجد العدد الذي مكعبه H : $H =$



ضع رقما مكان النقط لتحصل على عدد قابل للقسمة على 2 و 9 . قدم كل الحلول.

4 . 6 .

* أوجد مجموعة قواسم العدد 24 . $D_{24} = \{ \dots \}$

* أوجد مجموعة قواسم العدد 20 . $D_{20} = \{ \dots \}$

* أوجد المجموعة التالية . $D_{20} \cap D_{24} = \{ \dots \}$



ابن زاوية $[ox, oy]$ بحيث $x\hat{o}y = 40^\circ$

ثم عيّن نقطة A على $[oy]$ بحيث $oA = 3\text{cm}$

* ارسم المستقيم المارّ من A والعموديّ على (oy)

والذي يقطع (ox) في B .

① أحسب \hat{oBA} :

② ارسم منصف الزاوية $[Bo, BA]$ والذي يقطع (oA)

في نقطة E .

③ أحسب \hat{AEB} :

④ أرسم المستقيم Δ المارّ من E والعموديّ على (oA) .

* بيّن أنّ Δ مواز لـ (AB) :

⑤ أرسم $[BU]$ منصف الزاوية $[BA; Bx]$ الذي يقطع $[oy]$ في H .

* أحسب \hat{EHB} :

⑥ ارسم الدائرة \mathcal{C} مركزها E وشعاعها AE . ثم بيّن أنّ (OB) مماسّ لـ \mathcal{C} .



33

تدريب أجب بـ (صواب) أو (خطأ).

.....

* I تنتمي إلى المتوسط العمودي لـ [AB] إن $IA = IB$

.....

* Δ هو المتوسط العمودي لـ [AB] إن Δ مواز لـ (AB)

.....

* ABC مثلث قائم في A و $\hat{ABC} = 70^\circ$ إن $\hat{ACB} = 20^\circ$

.....

* $\hat{ABC} = 100^\circ$ و $\hat{CAB} = 90^\circ$ إن ABC مثلث قائم في A

34

تدريب 2 أكمل بما يناسب.

* $(47 + 23) + (53 - \dots) = 100$

* $19 \times \dots - 19 \times 8 = 190$

* $17 - \dots = 5$

* $3^{\dots} \times 4^{20} = (3^2 \times 4^{\dots} \times 5^{\dots})^4$

* $7^{\dots} \times 7 = 7^6$

* $5^7 \times 2^{\dots} = 10^{\dots}$

* $13 \times 7 + 13 \times \dots = 130$

* $57 - \dots = 17$

* $(5^7)^{\dots} = 1$

33

تدريب 3 احسب العبارات التالية :

* $A = 2^2 \times 4 + 6 = \dots$

* $B = 2 \times (3^2 + 1) = \dots$

* $C = 17 \times 23 - 17 \times 13 = \dots$

* $D = (2^3 + 77) - (2^2 + 77) = \dots$

* $E = 2 + (3^2 + 1)^2 \times 2 = \dots$

=

=

* $F = 3 + 7 \times (2 + 1)^2 = \dots$

* $G = 49 \times 49 - 49 \times 47 = \dots$

=

=

* $H = (2^3 - 7)^{20} + 20^1 = \dots$

33

تدريب 4

1 أكمل بما يناسب : $E = 2^3 \times 5^2 = 2 \times 10^{\dots}$

2 نعتبر العبارة F حيث : $F = 20^3 \times 5^2$

(أ) تحقق أن : $20 = 2^2 \times 5$

(ب) أستنتج كتابة مبسطة لـ F مشابهة لـ E .

F =

3 اكتب في صيغة قوة لعدد دليله مخالف لـ 1 العبارة K :

$$K = 20^2 \times 20 + 20^2 \times 5 = \dots\dots\dots$$

4 بين أن : $F + K = 21 \times 10^4$



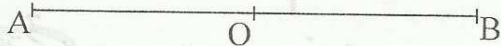
تمرين 5 يمثل الشكل المقابل قطعة مستقيم [AB] و O منتصفها بحيث AB = 6cm .

1 ارسم الدائرة C التي مركزها O وتمر من A .

ثم ابن المتوسط العمودي Δ للقطعة [OA]

والذي يقطعها في النقطة I .

* ما هي الوضعية النسبية للمستقيم Δ والدائرة C ؟



علل جوابك :

2 عين نقطة E من Δ بحيث $\hat{EOA} = 70^\circ$.

(أ) أثبت أن $EA = EO$:

(ب) أتمم : الزاويتان \hat{EOA} و \hat{EOB} هما و

(ج) احسب \hat{EOB} و \hat{OEI} :

3 أرسم نصف المستقيم [EX] بحيث : (EO) منصف الزاوية \hat{IEX} و J المسقط العمودي لـ O على [EX].

احسب OJ معللاً جوابك :

64

تمرين 1 احسب.

* A = $5 \times 2^3 =$
=

* E = $(2^2 + 13^5) - (2 + 13^5) =$
=

* B = $107 - 7 \times 2^2 =$
=

* F = $5^3 + 2^3 =$

* C = $2^3 + 3^3 + 4^3 =$
=

* G = $1^{17} - (3^2 - 2^3)^{17} =$
=

* D = $(2 + 3)^2 - (2^2 + 3^2) =$
=

* H = $3^2 \times 83 + 83 =$
=

63

تمرين 2

..... $2^5 \times 5^3 = 2^5 \times 10^3$ $3^3 \times 6^5 = 3^6 \times 2^2$ (خطأ) أو (صوب) أو (خطأ) 1

..... $19 \times 9 + 19 = 190$ $(17 - 13) + (3 + 13) = 20$ $13 + 16 \times 2 = 58$

2 اكتب في صورة مبسطة العبارات التالية.

* E = $(7^3)^2 \times 2^6 =$

* F = $8^2 \times 25^2 \times 5^3 =$

* G = $3^2 \times 17 - 3^2 \times 2^3 =$

63

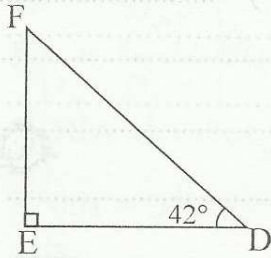
تمرين 3 نعتبر العدد 7 . 4 .

* ضع مكان النقط العدد المناسب لتتحصل على عدد قابل القسمة على 5 و 9 في نفس الوقت. أعط كل الحلول.

* صنف الأعداد التالية إلى أولية وغير أولية معللاً جوابك : 43 و 158 و 477

تمرين EDF مثلث قائم في E بحيث : $\widehat{EDF} = 42^\circ$.

1 احسب \widehat{EFD} :



2 ابن [Fx] منتصف \widehat{EFD} الذي يقطع [ED] في O .

أ) احسب \widehat{FOE} :

ب) احسب \widehat{DOx} :

ج) بين أن \widehat{DOx} و \widehat{EFx} متتامتان.

3 ارسم الدائرة \mathcal{C} مركزها D وشعاعها OD . ماهي الوضعية النسبية لـ \mathcal{C} و (EF)؟ علل جوابك.

4 ابن Δ المماس لـ \mathcal{C} في O ثم بين أن $\Delta \parallel (EF)$:

5 Δ يقطع [FD] في H . احسب \widehat{OHF} :

6 بين أن \widehat{OHF} و \widehat{EFD} متكاملتان :

الثلاثية الثانية

الفهرس

الصفحة

38	المحور الأعداد المهيخة الطبيعية (الدرس) - تفكيك عدد صحيح طبيعي إلى جذاء عوامل أولية.
39	المحور قواسم ومضاعفات عدد صحيح طبيعي (الدرس) - القاسم المشترك الأكبر.
40	المحور قواسم ومضاعفات عدد صحيح طبيعي (الدرس) - المضاعف المشترك الأصغر.
41	المحور الأعداد العشرية (الدرس) - الأعداد العشرية النسبية
42	المحور الأعداد الكسرية (الدرس) - الكتابات المختلفة - مقارنة الأعداد الكسرية
43	المحور التناظر المحوري (الدرس) - مناظرة نقطة - خاصيات التناظر المحوري
45	المحور المثلثات (الدرس) - المستقيمات المعبرة
47	المحور المثلثات الخاصة (الدرس) - المثلث القائم / متقايس الضلعين / متقايس الأضلاع
49	تقييم فرن مراقبة عدد 3 خروج 1
51	تقييم فرن مراقبة عدد 3 خروج 2
53	تقييم فرن مراقبة عدد 3 خروج 3
55	تقييم فرن مراقبة عدد 4 خروج 1
57	تقييم فرن مراقبة عدد 4 خروج 2
59	تقييم فرن مراقبة عدد 4 خروج 3
61	تقييم فرن تأليفي عدد 2 خروج 1
63	تقييم فرن تأليفي عدد 2 خروج 2
65	تقييم فرن تأليفي عدد 2 خروج 3

تمرين

* $40 = 2 \times \dots = 2 \times 2 \times \dots = 2 \times 2 \times 2 \times \dots = 2^{\dots} \times \dots$

1 أكمل :

* $100 = 2 \times \dots = 2 \times 2 \times \dots = 2 \times 2 \times 5 \times \dots = 2^{\dots} \times 5^{\dots}$

2 ضع في إطار من بين المقترحات التالية ما يعبر عن تفكيك إلى جذاء عوامل أولية.

49×43 ; $2 \times 11 \times 5$; 21×19 ; 6×13

تمرين

1 فكك إلى جذاء عوامل أولية الأعداد التالية : 60 و 72 و 108 .

2 أستنتج تفكيكا إلى جذاء عوامل أولية للعدد : 60×72 .3 بين أن : 108×72 هو قوة لعدد صحيح طبيعي . أوجده .

تمرين

1 اكتب العدد 225 في صيغة مربع لعدد صحيح طبيعي .

2 اكتب العدد 216 في صيغة مكعب لعدد صحيح طبيعي .

3 فكك إلى جذاء عوامل أولية العدد : $225^3 \times 216$.

تمرين

1 فكك إلى جذاء عوامل أولية : 75 و 10 000 .

2 فكك إلى جذاء عوامل أولية العدد : 750 000 .



تمرين 1 قطعة معدنية طولها 20 م نريد تقسيمها إلى قطع متقايسة. ماهو طول القطعة الواحدة ؟

(قدّم جميع الحلول)

تمرين 2 1 فكك العددين 200 و 80 إلى جذاء عوامل أولية.

					X

D_{80}

					X

D_{200}

2 أ / أوجد D_{200}

ب / أوجد D_{80}

3 أوجد $D_{200} \cap D_{80}$

4 أوجد القاسم المشترك الأكبر لـ 200 و 80

تمرين 3 1 فكك إلى جذاء عوامل أولية العددين 156 و 130 .

2 أوجد ق.م.أ لـ 156 و 130 .

3 أوجد $D_{30} \cap D_{156}$

تمرين 4 1 أحسب الق.م.أ لـ 294 و 315 .

2 أنجز قسمة 315 و 294 على قاسمها المشترك الأكبر ثم أحسب الق.م.أ للعددين المتحصّل عليهما.

ماذا تلاحظ ؟ :

تمرين 5 أكمل بما يناسب :

$$\begin{array}{l} (19, 17) \text{ ق.م.أ} = \dots \quad \left\| \quad (705, 5) \text{ ق.م.أ} = \dots \quad \left\| \quad (21, 3) \text{ ق.م.أ} = \dots \right. \\ (15, 25, 10) \text{ ق.م.أ} = \dots \quad \left\| \quad (15, 12) \text{ ق.م.أ} = \dots \quad \left\| \quad (7, 9, 6) \text{ ق.م.أ} = \dots \right. \end{array}$$

تمرين 1 يملك أحمد فانوسا يضيء كل 6 ثوان وفانوسا يضيء كل 4 ثوان. أضيء الفانوسان معا لأول مرة في الساعة صفر. بعد كم من ثانية يضيء الفانوسان معا في المرة الثانية؟

تمرين 2 أوجد العناصر الأصغر من 200 لكل من المجموعتين التاليتين: M_{45} و M_{60} . (مضاعفات 60 و 45)

2 أوجد م.م.أ (60، 45) :

تمرين 3 فكك إلى جذاء عوامل أولية العددين 90 و 84 .

2 أوجد م.م.أ لـ (90 ، 84) :

3 أوجد ق.م.أ لـ (90 ، 84) :

4 أحسب 84×90 ثم ق.م.أ (84 ، 90) \times م.م (84 ، 90) . ماذا تلاحظ :

5 استعمل النتيجة السابقة لحساب عدد بحيث هذا العدد و 70 قاسمهما المشترك الأكبر هو 10 ومضاعفهما المشترك الأصغر هو 140 .

تمرين 4 أكمل بما يناسب :

$$\begin{array}{l} (6, 7) \text{ م.م.أ} = \dots \quad \parallel \quad (700, 10) \text{ م.م.أ} = \dots \quad \parallel \quad (28, 7) \text{ م.م.أ} = \dots \\ (9, 3, 6) \text{ م.م.أ} = \dots \quad \parallel \quad (18, 12) \text{ م.م.أ} = \dots \quad \parallel \quad (9, 5) \text{ م.م.أ} = \dots \\ \dots \text{ م.م.أ} = 168 \quad \parallel \quad (\dots, 7, 4) \text{ م.م.أ} = 168 \quad \parallel \quad (\dots, 6) \text{ م.م.أ} = 24 \end{array}$$

تمرين 5 عدد تلاميذ قسمك أقل من 30 تلميذا يمكن تقسيمه إلى مجموعات ذات 6 تلاميذ أو 8 تلاميذ.

أوجد هذا العدد :

احسب العبارات التالية :

$$C = 37,49 - (7,49 + 17,45) = \dots\dots\dots$$

$$A = 7,03 + 13,9 + 5,97 = \dots\dots\dots$$

$$D = 73,97 - 12,66 - 7,44 = \dots\dots\dots$$

$$B = (37,84 + 45,79) - (7,84 + 45,79) = \dots\dots\dots$$



رتب الأعداد العشرية باستعمال العلامة (<) : 13,07 - 13,3 - 13,025 - 13,1 - 12,99

أحسب العبارات التالية :

$$b = 15,33 \times (0,7 + 9,3) = \dots\dots\dots$$

$$a = 7,3 - 0,3 \times 2 = \dots\dots\dots$$

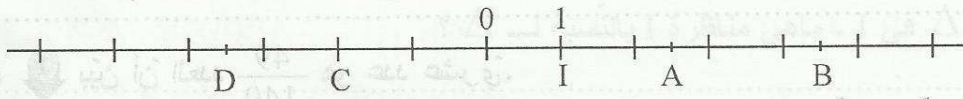
$$d = 13,6 \times 0,1 + 13,6 \times 10 = \dots\dots\dots$$

$$c = 22,33 \times 7,4 + 22,33 \times 92,6 = \dots\dots\dots$$

$$f = 49,7 \times 9 + 49,7 = \dots\dots\dots$$

$$e = (7,1 - 7) \times 35,6 = \dots\dots\dots$$

أكمل بـ : (<) أو (>) أو (=) : 43,52 × 1 43,52 / 43,52 × 2,3 43,52 / 43,52 × 0,9 43,52 :



ماهي فواصل كل من النقاط A و B و C و D ؟

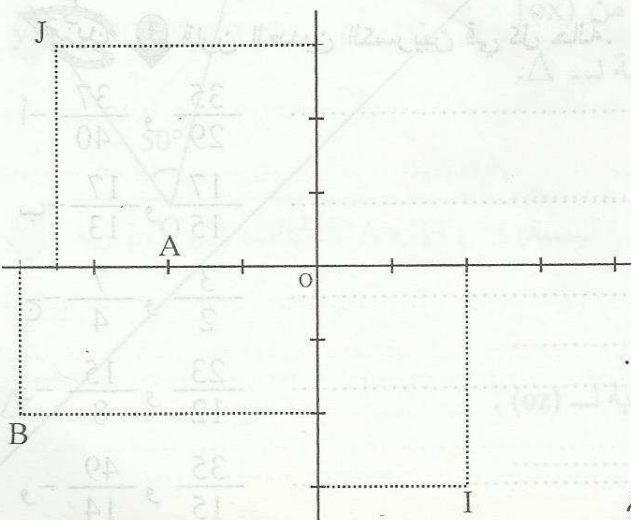


عين النقطة E فاصلتها 3 و L فاصلتها (-1,5) ونقطة H فاصلتها مقابلة لفاصلة C . ماهي فاصلة H ؟

ماذا تمثل O بالنسبة لـ القطعة [CH] ؟

ابن F بحيث O منتصف [BF] . ماهي فاصلة F ؟

حدد إحداثيات النقاط I و J و A و B .



ابن النقطتين : E(3 ; 2) و F(-2 ; 2) .

اذكر نقطتين لهما نفس الفاصلة.

ابن H لها نفس فاصلة A و ترتيبتها مقابلة لترتيبة J ثم حدد إحداثياتها :

ابن K منظره E بالنسبة لـ (OA) محور الفواصل

ثم أوجد إحداثياتها. ماذا تلاحظ ؟ :

تمرين 1 قارورة بها 2 ل من الماء أفرغت بالتساوي على 7 كؤوس. ماهو بالنتج العدد الذي يعبر عن كمية الماء بكل كأس ؟ :

$$5 \times \frac{12}{5} = \dots\dots\dots$$

$$\frac{12}{7} \times 7 = \dots\dots\dots$$

$$\frac{7}{4} \times 4 = \dots\dots\dots$$

تمرين 2 1 أحسب ما يلي :
2 أكمل بالعدد المناسب :

$$\frac{5}{6} = \frac{25}{\dots\dots\dots}$$

$$\frac{26}{39} = \frac{\dots\dots\dots}{3}$$

$$\frac{15}{10} = \frac{3}{\dots\dots\dots}$$

$$\frac{7}{4} \times \dots\dots\dots = \frac{7}{4}$$

$$18 \times \dots\dots\dots = 1$$

تمرين 3 1 اختزل إلى أقصر حد الأعداد الكسرية التالية :

$$\frac{72}{84} = \dots\dots\dots \quad \frac{54}{63} = \dots\dots\dots \quad \frac{20}{35} = \dots\dots\dots \quad \frac{66}{77} = \dots\dots\dots$$

2 اذكر العدد الدخيل من بين الأعداد التالية معطلا جوابك : $\frac{66}{77}$ و $\frac{20}{35}$ و $\frac{72}{84}$ و $\frac{54}{63}$

تمرين 4 1 بين أن العدد $\frac{49}{140}$ هو عدد عشري.

2 أكمل بالعدد المناسب : $\frac{49}{140} = \frac{\dots\dots\dots}{10^2} = \dots\dots\dots$

3 هل أن $\frac{35}{60}$ هو عدد عشري. علل جوابك.

تمرين 5 1 قارن العددين الكسريين في كل حالة.

أ- $\frac{35}{29}$ و $\frac{37}{40}$

ب- $\frac{17}{15}$ و $\frac{17}{13}$

ج- $\frac{3}{2}$ و $\frac{7}{4}$

د- $\frac{23}{12}$ و $\frac{15}{8}$

و- $\frac{35}{15}$ و $\frac{49}{14}$

تمرين 1 أرسم قطعة مستقيم $[AB]$ بحيث $AB = 6 \text{ cm}$ و Δ المتوسط العمودي لـ $[AB]$. ماهي مناظرة A بالنسبة لـ Δ ؟ عّل جوابك.

2 عيّن نقطة C لا تنتمي لـ Δ ولا لـ $[AB]$ بحيث $BC = 2 \text{ cm}$ ثم ابن مناظرة C بالنسبة لـ Δ . ماهي الوضعية النسبية لـ (CC') و Δ ؟

3 بين أن $(CC') \parallel (AB)$.

4 احسب AC' .

5 (AC) يقطع Δ في I. ماهي مناظرة I بالنسبة لـ Δ ؟

6 بين أن B و I و C' على استقامة واحدة.

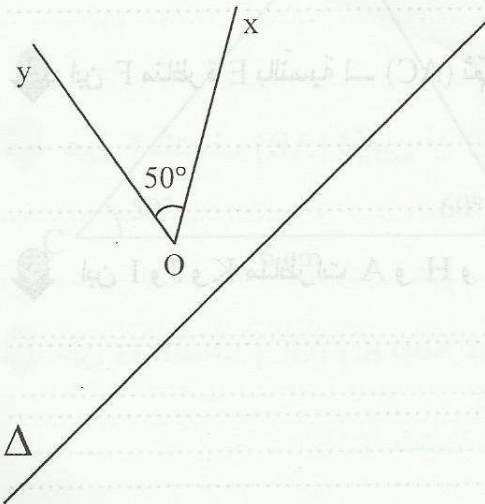
تمرين 2 لاحظ الشكل حيث $x\hat{O}y$ زاوية قياسها 50° و Δ مستقيم.

1 ابن O' مناظرة O بالنسبة لـ Δ . ثم عيّن A و B من (ox) و (oy) على التوالي ثم ابن مناظرتيهما A' و B' بالنسبة لـ Δ .

2 ماذا تمثل $A'\hat{O}'B'$ بالنسبة لـ $x\hat{O}y$ ؟

3 احسب $A'\hat{O}'B'$ معللاً جوابك.

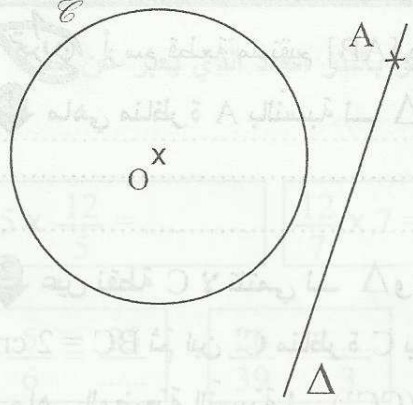
4 ابن (Oz) منصف الزاوية $x\hat{O}y$ ثم أوجد مناظرة $x\hat{O}y$ بالنسبة لـ (Oz) .



تمرين 3

لاحظ الرسم حيث Δ مستقيم \mathcal{C} دائرة مركزها O وشعاعها 2 صم و A نقطة من Δ .

1 ابن \mathcal{C} مناظرة \mathcal{C} بالنسبة لـ Δ مركزها O' .



[OA] تقطع \mathcal{C} في نقطة M . ابن M' مناظرة M بالنسبة لـ Δ .

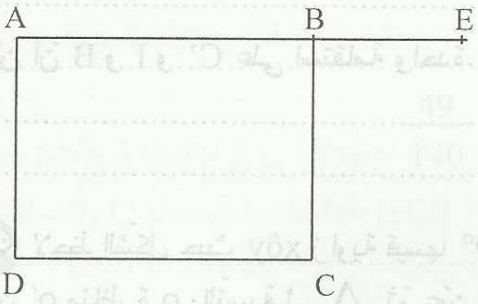
2 بين أن $M' \in \mathcal{C}'$

3 بين أن A و O' و M' على استقامة واحدة.

4 $(O'M)$ يقطع (OM') في H . بين أن H تنتمي لـ Δ .

تمرين 4

لاحظ الشكل حيث ABCD مستطيل و E نقطة من $[AB]$ بحيث $BE = 2$ و $AB = 4$ و $BC = 3$ بالصم.



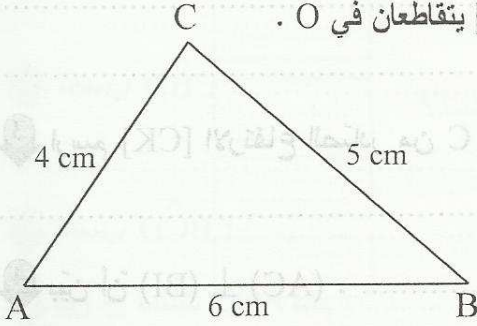
1 ابن H مناظرة B بالنسبة لـ (AC) ثم بين أن $(HC) \perp (AH)$.

2 ابن F مناظرة E بالنسبة لـ (AC) ثم أحسب مساحة المثلث ACF .

3 ابن I و J و K مناظرات A و H و F بالنسبة لـ (BC) ثم بين أن I و J و K على استقامة واحدة.

ABC مثلث بحيث : $AB = 6 \text{ cm}$ و $AC = 4 \text{ cm}$ و $BC = 5 \text{ cm}$

1 ابن Δ المتوسط العمودي لـ $[AC]$ و Δ' المتوسط العمودي لـ $[AB]$ يتقاطعان في O .
* ماذا تمثل النقطة O بالنسبة للمثلث ABC ؟



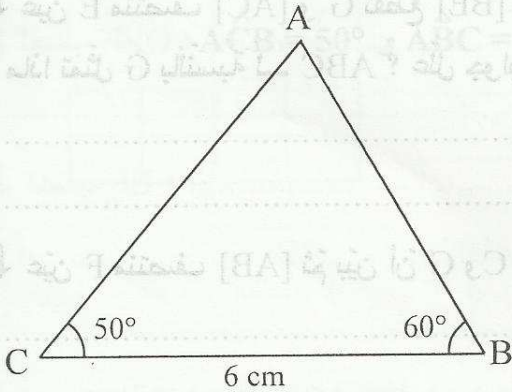
2 بين أن $OC = OB$

3 ابن H المسقط العمودي لـ O على $[BC]$ ثم بين أن H منتصف $[BC]$.

4 ابن المتوسط العمودي لـ $[OC]$ يقطع (OH) في K ثم عين J منتصف $[OB]$. بين أن $(KJ) \perp (OB)$.

ABC مثلث بحيث : $BC = 6 \text{ cm}$ و $\hat{A}BC = 60^\circ$ و $\hat{A}CB = 50^\circ$

1 ابن $[Cx]$ و $[By]$ منصفًا $\hat{A}CB$ و $\hat{A}BC$ يتقاطعان في O و H المسقط العمودي لـ O على (BC) .
ماذا تمثل O بالنسبة للمثلث ABC ؟



2 ماذا يمثل البعد OH ؟

3 احسب $\hat{B}AC$

4 ماذا يمثل $[AO]$ بالنسبة لـ $\hat{B}AC$ ؟ علل جوابك.

5 احسب $\hat{A}OC$:

تمرين 3
1 ابن AHB مثلثًا قائمًا في H بحيث $HA = 3 \text{ cm}$ و $HB = 4 \text{ cm}$.

2 عيّن النّقطَة C من نصف المستقيم [BH] وخارج القطعة [BH]

بحيث $HC = 1 \text{ cm}$. ماذا يمثّل [AH] بالنّسبة للمثلث ABC :

3 ارسم [CK] الارتفاع الصّادر من C يقطع [AH] في I. ماذا تمثّل I بالنّسبة للمثلث ABC ؟

4 بيّن أنّ $(AC) \perp (BI)$.

5 ماهو المركز القائم للمثلث AHB والمثلث BIC.

تمرين 4
1 ابن المثلث AIB حيث $IB = 3$ و $IA = 4$ و $AB = 6$.

2 ابن النّقطَة C بحيث I منتصف [BC]. ماذا يمثّل [AI] بالنّسبة للمثلث ABC ؟

3 عيّن E منتصف [AC] و G تقطع [BE] و [AI].

ماذا تمثّل G بالنّسبة لـ ABC ؟ علّل جوابك.

4 عيّن F منتصف [AB] ثمّ بيّن أنّ G و C و F على استقامة واحدة.

5 عيّن H منتصف [GC] و K نقطة تقاطع [AH] و [GE]. بيّن أنّ K هي مركز ثقل المثلث AGC.

1 تمرين ابن المثلث ABC القائم في A بحيث $BC = 6 \text{ cm}$ و $\hat{ABC} = 40^\circ$ و I منتصف $[BC]$.

ثم احسب \hat{ACB} .

2 ماهو المركز القائم للمثلث ABC ؟

3 احسب AI :

4 ماذا تمثل I بالنسبة للمثلث ABC ؟ ارسم ذلك.

5 احسب \hat{BAI} :

6 H المسقط العمودي لـ I على (AB) . بين أن H منتصف $[AB]$.

7 (CH) يقطع (AI) في G . ماذا تمثل G بالنسبة للمثلث ABC ؟ علل جوابك.

2 تمرين 1 ابن المثلث ABC بحيث $BC = 5 \text{ cm}$ و $\hat{ABC} = 70^\circ$ و $\hat{ACB} = 50^\circ$.

* احسب \hat{BAC} :

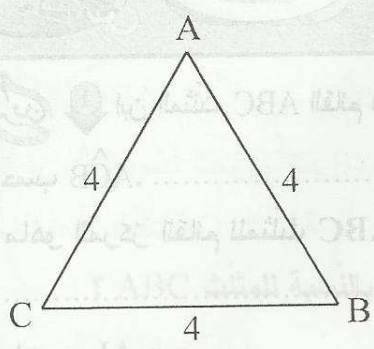
2 ابن Δ المتوسط العمودي لـ $[BC]$ يقطع $[AC]$ في F .

بين أن المثلث BFC متقايس الضلعين.

3 احسب \hat{BFC} :

4 ابن $[Cy]$ منتصف \hat{BCF} يقطع Δ في E . ماذا تمثل E بالنسبة للمثلث BCF ؟

تمرين 3
 ABC مثلث متقايس الأضلاع بحيث : $AB = 4 \text{ cm}$
 1 احسب \hat{ACB} :



2 ابن D بحيث B منتصف [AD] ثم بين أن BDC مثلث متقايس الضلعين.

3 احسب \hat{CBD} :

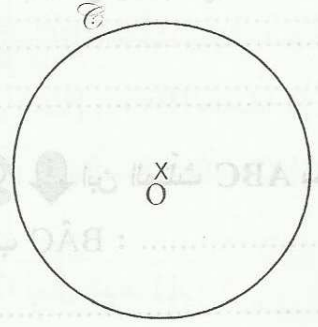
4 احسب \hat{BCD} :

5 بين أن المثلث ACD قائم :

6 عين H منتصف [AC] ثم بين أن $(CD) \parallel (BH)$:

تمرين 4
 دائرة مركزها O وشعاها 2 صم.

1 عين نقطتين E و F من \mathcal{C} بحيث $\hat{EOF} = 60^\circ$ ثم بين أن $OF = OE$.



2 احسب \hat{OEF} :

3 احسب EF :

4 أرسم النقطة H المقابلة قطرياً لـ F ثم ابن [Hy] منتصف \hat{EHF} و K منتصف [OE] و I نقطة تقاطع [FK] و [Hy].
 ماذا تمثل I بالنسبة للمثلث EHF؟ علل إجابتك :

62

تمرين 1 أجب بـ (صواب) أو (خطأ)

* $4 \times 3 \times 7$ هو تفكيكا إلى جداء عوامل أولية.

* Δ هو المتوسط العمودي لـ $[AB]$ يعني A و B متناظرتان بالنسبة لـ Δ .

* ق م أ (4, 3) هو 1

* ق م أ (2, 14) هو 14

64

تمرين 2

1 فكك إلى جداء عوامل أولية العددين 360 و 108.

2 استنتج تفكيكا لـ 360×108 .

3 احسب الق.م.أ لـ 360 و 108.

4 استنتج $D_{360} \cap D_{108}$.

			X

64

تمرين 3 نعتبر التفكيك التالي لـ 2025 . حيث : $2025 = 3^4 \times 5^2$.

1 بين أن 2025 هو مربع لعدد صحيح طبيعي تحدده.

2 بين أن 2025 يقبل القسمة على 15.



28

قطعة أرض مستطيلة الشكل طولها 360 م وعرضها 108 م نريد تقسيمها إلى قطع متقايسة

مربعة الشكل. ماهو عدد هذه القطع إذا أردنا الحصول على أقل عدد ممكن ؟




28

1 ابن المثلث ABC القائم في A بحيث $AB = 3 \text{ cm}$ و $BC = 5 \text{ cm}$.

2 ابن E منظره B بالنسبة لـ (AC) ثم أوجد منظره [BC] بالنسبة لـ (AC).

3 احسب EC :

4 بين أن A منتصف [BE].



5 * عين M من [CB] بحيث $BM = 2$. ثم ابن N

منظرته بالنسبة لـ (AC).

* بين أن C و E و N على استقامة واحدة.

6 ابن D منظره B بالنسبة لـ (AM) و F منظره E بالنسبة لـ (AM) ثم بين أن A منتصف [DF].

7 بين أن $AF = 3 \text{ cm}$.



62

تمرين 1 ضع علامة (x) أمام المقترح السليم (لكل سؤال مقترح سليم واحد)

عدد أولي 49

عدد أولي 39

عدد أولي 37 *

40^3

$2^5 \times 5$

$2^4 \times 5$ يساوي 20×2^3 *

62

تمرين 2

1 اذكر الأعداد الأولية الأصغر من 30 .

2 هل أن العدد 567 أولي؟ عّلل جوابك.

65

تمرين 3

1 فكك إلى جذاء عوامل أولية العددين 168 و 441 .

2 أوجد العدد الذي مربعه 441 :

3 أستنتج تفكيكا لـ 441×168 .

4 أوجد العدد الذي مكعبه الجداء 441×168 .

63

تمرين 4

1 أكمل بما يلي :

ق.م.أ (7 ، 14) = لأنّ

ق.م.أ (13 ، 27) = لأنّ

2 أحسب ق.م.أ (168 و 180) :

3 أنجز قسمة العددين 168 و 180 على 3 ثم أوجد الق.م.أ للعددين المتحصّل عليهما ؟

ماذا تلاحظ بالنسبة للنتيجة ؟ :

تمرين

1 ابن المثلث EFH بحيث EF = 6 cm و EH = 2 cm و $F\hat{E}H = 60^\circ$.

2 ابن Δ المتوسط العمودي لـ [EF] و K مناظرة H بالنسبة لـ Δ . ثم أوجد مناظر نصف المستقيم (HE).

3 احسب $\hat{E}FK$. مغلًا جوابك.

4 (EH) يقطع Δ في I. بين أن F و K و I على استقامة واحدة.

5 أرسم الدائرة \mathcal{C} مركزها E وشعاعها 2 صم.

ثم ابن \mathcal{C}' مناظرتها بالنسبة لـ Δ . بين أن K تنتمي لـ \mathcal{C}' .



فرض مراقبة عدد 3



63

تمرين

أكمل ما يلي : $D_{18} = \{ \dots \}$

$D_{18} \cap D_{15} = \{ \dots \}$ $D_{15} = \{ \dots \}$

أستنتج الق. م. أ (18 ، 15).

63

تمرين

فكك إلى جذاء عوامل أولية العددين 144 و 70 .

أستنتج تفكيكا لـ 144^2 ثم 144 000

64

تمرين

أحسب الق. م. أ والم. م. أ لـ 126 و 180 .

ماهو خارج قسمة 7×180 على 126 ؟

أستنتج الق. م. أ لـ 7×180 و 126 .

4 احسب الق. م. أ. (66 , 180 , 126)

تمرين

610

1 ابن المثلث ABC بحيث $AB = 5 \text{ cm}$ و $AC = 4 \text{ cm}$ و $\hat{BAC} = 90^\circ$.

2 ابن Δ المتوسط العمودي لـ [BC] يقطعها في I و Δ يقطع

(AC) في J .

* أوجد مناظرات النقاط B و I و J بالنسبة لـ Δ .

3 ابن F مناظرة A بالنسبة لـ Δ ثم بين أن J و F و B على استقامة واحدة.

4 بين أن $(CF) \perp (BJ)$:

5 بين أن $CF = 5$:

6 احسب مساحة المثلث CFB :

62

ضع علامة (x) أمام المقترح السليم (لكل سؤال مقترح سليم واحد)

$53000 \times 0,1 = 53 \times 10^3$

$-2,4 > -3,4$

$7,1 < 7,05$ *

$0,737$

$73,7$

737 يساوي $7,37 \times 3 + 7,37 \times 7$ *

63

تمرين

1 أكمل بما يناسب :

* الم. م. أ (26 ، 13) = لأن

* الم. م. أ (12 ، 11) = لأن

2 أحسب م. م. أ (126 ، 60) .

3 استنتج حساب الم. م. أ لـ (600 و 1260)

64

تمرين

1 رتب تصاعدياً الأعداد: 13,7 و 13,50 و 13,007 و 13,1 و 13,03 .

2 أحسب العبارات التالية :

C = $17,5 \times 7,4 + 17,5 \times 2,6 =$

A = $17,3 \times 0,5 \times 2 =$

D = $(0,25 + 0,5) \times 4 =$

B = $5,4 - 0,4 \times 0,25 =$

3 لاحظ أن : $97 \times 85 = 8245$

* استعن بهذه النتيجة لحساب العبارات التالية :

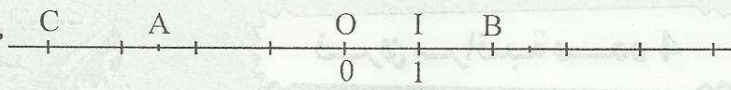
G = $0,097 \times 0,85 =$

E = $9,7 \times 8,5 =$

F = $0,97 \times 8,5 =$



٥٤



نعتبر المستقيم المدرج التالي :

1 أوجد فواصل النقاط C و B و A .

.....

2 عيّن H بحيث I منتصف [AH] . ماهي فاصلة H ؟

3 عيّن E فاصلتها مقابلة لفاصلة A . ماهي فاصلة E ؟

4 ماذا تمثل O بالنسبة لـ [AE] ؟ :



٥٥

بعضها لغيرها :

1 ابن المثلث ABC بحيث $BC = 5 \text{ cm}$ و $\hat{ABC} = 60^\circ$ و $\hat{ACB} = 50^\circ$.

2 أحسب \hat{BAC} :

.....

3 ابن Δ المتوسط العمودي لـ [AC] يقطع Δ المتوسط العمودي

لـ [AB] في O . ثم أرسم الدائرة \mathcal{C} التي مركزها O وشعاعها OA .

* ماذا تمثل \mathcal{C} بالنسبة لـ ABC ؟

.....

4 عيّن I منتصف [BC] ثم النقطة F بحيث (OI) يقطع [AC] في F . بين أن $FC = FB$.

.....

.....

.....

5 احسب \hat{AFB} :

.....

.....

6 أين يقع مركز الدائرة المحيطة بالمثلث AFB ؟ علّل إجابتك .

.....

.....

.....

63

تمارين 1 مؤسسة صناعية بها ساعة تدق كل 45 دقيقة و مؤسسة أخرى بجوارها بها ساعة تدق كل 60 دقيقة. دقت الساعتان معا ولأول مرة على الساعة 0. بعد كم من دقيقة تدقان معا في المرة الثانية؟

63

تمارين 2 أحسب العبارات التالية :

$$C = 0,25 \times 13,74 \times 40 = \dots\dots\dots \quad A = 6,74 - (0,74 + 5,7) = \dots\dots\dots$$

$$D = 5,6 \times 0,03 + 5,6 \times 0,07 = \dots\dots\dots \quad B = (5,34 + 7,32) - (2,34 + 7,32) = \dots\dots\dots$$

64

تمارين 3

1 أكمل بالعدد المناسب :

$$* 17,38 - \dots\dots\dots = 7,08 \quad * 5,32 + \dots\dots\dots = 7 \quad * 937,1 \times \dots\dots\dots = 9,371$$

$$* (9,37 + 35,13) + (\dots\dots\dots - 35,13) = 59,37 \quad * 73,5 + \dots\dots\dots = 100$$

$$* 13,7 - (2,3 + \dots\dots\dots) = 11 \quad * 37,52 \times \dots\dots\dots = 375,2$$

2 أكمل بإحدى العلامات : < أو > أو = .

$$5,97 \cdot 6,1 \quad , \quad 7,09 \cdot 7,2 \quad , \quad 13,56 \times 10^2 \cdot 13560 \times 0,1 \quad , \quad 8,0500 \cdot 8,05$$

$$-1,2 \cdot -1,3 \quad , \quad -2,3 \cdot 0 \quad , \quad -13,73 \cdot -13,9 \quad , \quad (-3) \cdot (-7)$$

610

تمارين 4

1 ابن المثلث ABC بحيث $BC = 6 \text{ cm}$ و $\hat{ABC} = 40^\circ$ و $\hat{ACB} = 60^\circ$.

2 أحسب \hat{BAC} :

3 ابن $[Cx]$ منصف $\hat{A}CB$ يقطع $[AB]$ في F .

* احسب $\hat{C}FB$:

4 ابن $[By]$ منصف $\hat{A}BC$ يقطع $[Cx]$ في O .

* ماذا تمثل النقطة O بالنسبة للمثلث ABC ؟

5 ارسم النقطة H المسقط العمودي لـ O على (BC) ثم ارسم الدائرة التي مركزها O وشعاعها OH .

ثم ارسم K المسقط العمودي لـ O على (AC) . بين ان $OK = OH$.

6 * احسب \hat{AOK} :

7 عين نقطة E من $[CA]$ بحيث E خارج القطعة $[AC]$ ثم ابن $[Az]$ منصف $B\hat{A}E$ يقطع (Cx) في R .

بين ان R متساوية البعد عن (AC) و (AB) و (BC) .

8 ارسم الدائرة التي مركزها R ومماسة لـ (AB) و (AC) و (BC) .



63

تمرين

1 فكك إلى جذاء عوامل أولية العدد 75 .

2 استنتج تفكيكا لـ 75000 .

3 بين أن العدد 75000 قابل للقسمة على 8 :

4 أحسب م. م. أ (75000 و 120) .

64

تمرين

1 أحسب العبارات التالية.

$$* C = 5,2 \times 11 - 5,2$$

$$* A = 6,5 \times (7,1 + 2,9)$$

$$* D = 2,7 \times 7,3 + 2,7 \times 2,7$$

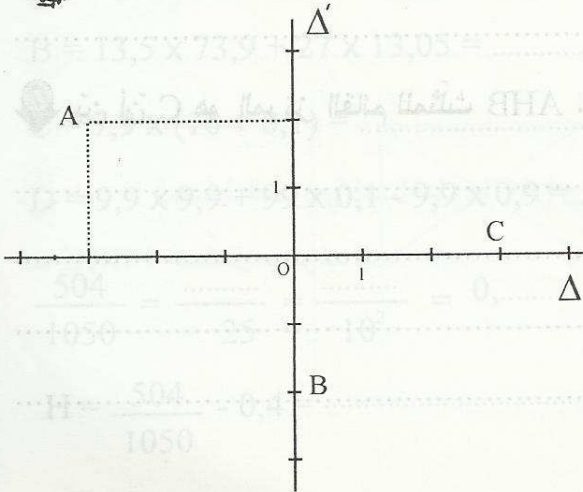
$$* B = 15,1 + 2 \times 5,4$$

2 رتب الأعداد التالية تصاعديًا : $6500 \times 0,001$ و 6,49 و $\frac{606}{100}$ و 6,61 و 6,90 .

63

تمرين

1 حدد إحداثيات النقاط A و B و C .



2 ابن النقطتين H و D بحيث D(2,2) و H(-3,-2) .

3 أذكر نقطتين لهما نفس الفاصلة ومتقابلتين في الترتيب.

ماذا تلاحظ عنهما ؟

4 ابن مناظرة D بالنسبة لـ Δ ثم اذكر إحدائيات E . تية/مه/ت

5 بين أن $CE = CD$:

تمرين

1 ابن المثلث ABC بحيث $BC = 6 \text{ cm}$ و $\hat{ACB} = 60^\circ$ و $\hat{ABC} = 70^\circ$.

2 احسب \hat{BAC} :

3 ارسم [BE] الارتفاع الصادر من E ثم احسب \hat{EBC} :

4 ارسم [CF] الارتفاع الصادر من C يقطع [BE] في H . ماذا تمثل النقطة H بالنسبة للمثلث ABC ؟

5 ارسم K المسقط العمودي لـ A على [BC] ثم بين أن A و K و H على استقامة واحدة.

6 أوجد الارتفاع الصادر من B في المثلث AHB .

7 بين أن C هو المركز القائم للمثلث AHB .



63

تمرين 1 ضع علامة (x) أمام المقترح السليم (لكل سؤال مقترح سليم واحد)

* المركز القائم لمتلث قائم هو : منتصف الوتر رأس الزاوية القائمة

* مركز الدائرة المحيطة لمتلث قائم هو : منتصف الوتر رأس الزاوية القائمة

* الارتفاع في متلث يربط بين : الرأس والمنتصف الرأس ومسقطه العمودي على الضلع المقابل

* $A(-2,3)$ و $B(-2,-3)$ إذن A و B متناظرتان بالنسبة لـ : محور الفواصل محور الترتيب

64

تمرين 2 نعتبر التفكيك التالي للعددين : $504 = 2^3 \times 3^2 \times 7$ و $1050 = 2 \times 3 \times 7 \times 5^2$

1 أوجد الق.م. أ. (504 و 1050) :

2 أوجد م.م. أ (504 ، 1050) :

3 ما هو طول ضلع مربع مساحته تقسم العدد 504 ؟

63



1 أحسب العبارات التالية :

$$A = 3,5 - 0,5 \times 7 = \dots\dots\dots$$

$$B = 13,5 \times 73,9 + 27 \times 13,05 = \dots\dots\dots$$

$$C = 7,9 \times (10 + 0,1) = \dots\dots\dots$$

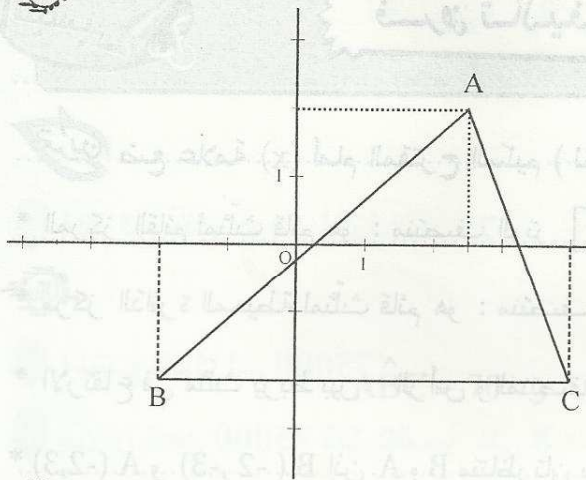
$$D = 9,9 \times 9,9 + 99 \times 0,1 - 9,9 \times 0,9 = \dots\dots\dots$$

$$\frac{504}{1050} = \frac{\dots\dots\dots}{25} = \frac{\dots\dots\dots}{10^2} = 0,\dots\dots\dots$$

2 أكمل بالعدد المناسب :

$$H = \frac{504}{1050} - 0,4 = \dots\dots\dots$$

3 استنتج حساب العبارة H :



1 أوجد إحداثيات رؤوس المثلث ABC .

2 عيّن E و F حيث $E(-2,0)$ و $F(0,3)$.

3 H المسقط العمودي لـ A على (BC) .

أوجد إحداثيات H :

1 ابن المثلث ABC بحيث $BC = 8 \text{ cm}$ و $\hat{ABC} = 70^\circ$ و $\hat{BCA} = 60^\circ$.

2 عيّن I منتصف [BC] وأرسم الارتفاع [BK] . ثم أحسب KI .

3 أرسم [CJ] الارتفاع الصادر من C يقطع (BK) في H .

ماذا تمثل H بالنسبة للمثلث ABC ؟

4 احسب \hat{HAC} :

5 ماهو نوع المثلث IKC ؟ علّل جوابك .

6 ابن F المسقط العمودي لـ I على [AC] و G نقطة تقاطع (BF) و (KI) . ماذا تمثل النقطة G بالنسبة

لـ BKC ؟ علّل جوابك .

64

تدريب

1 فكك إلى جداء عوامل أولية العددين 168 و 96.

2 أحسب الق.م. أ (96 و 168).

3 اختزل إلى أقصى حدّ العدد $\frac{168}{96}$

4 أكتب العدد : $\frac{168}{96}$ في شكل كسر مقامه قوّة لـ 10

63

تدريب

1 أحسب العبارات التالية :

$$B = (29,27 + 7,06) + (0,63 - 7,06)$$

$$A = 3,05 \times 3,5 - 3,05 = \dots\dots\dots$$

$$C = 5,2 - 5,2 \times (3 + 1) \times 0,25 = \dots\dots\dots$$

$$D = 8,4 \times 0,5 + 4,2 \times 9 - 9 = \dots\dots\dots$$

2 أكمل بـ إحدى العلامات : < أو > أو =

$$37,03 \dots\dots\dots 47,3 \quad / \quad 13,05 \dots\dots\dots 13,050 \quad / \quad 31,7 \dots\dots\dots 31,56$$

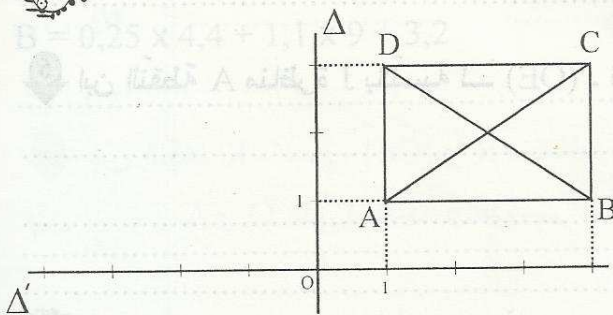
63

تدريب

1 أوجد إحداثيات رؤوس المستطيل ABCD .

2 ابن A' و C' مناظرتي A و C بالنسبة لـ Δ ثم جد إحداثيتهما.

3 بين أن $A'C' = BD$



تدريب ابن المثلث EOF القائم في O بحيث $OE = 6$ cm و $OF = 2$ cm .

2 ابن النقطة H بحيث O منتصف [FH] ثم بين أن المثلث FEH متقايس الضلعين.

3 ابن Δ المتوسط العمودي لـ [EF] يقطع (OE) في I .

ماذا تمثل I بالنسبة للمثلث EFH ؟ علل جوابك.

4 Δ يقطع [EF] في J . ماذا يمثل [HJ] بالنسبة للمثلث FHE ؟

5 (HJ) يقطع (OE) في K . بين أن K هي مركز ثقل المثلث HEF .

6 ابن النقطة A منازرة J بالنسبة لـ (OE) . ثم بين أن F و K و A على استقامة واحدة.

63

تمرين 1 ضع علامة (x) أمام المقترح السليم (لكل سؤال مقترح سليم واحد)

* 7,05 يساوي $\frac{705}{10}$ $\frac{70,5}{100}$ $\frac{705}{1000}$ $\frac{70,5}{10}$

* $\frac{45}{27}$ يساوي $\frac{15}{9}$ $\frac{9}{3}$ $\frac{48}{30}$ $\frac{10}{3}$

* $\frac{7}{12}$ هو عدد عشري $\frac{5}{6}$ هو عدد عشري $\frac{15}{12}$ هو عدد عشري $\frac{1}{3}$ هو عدد عشري

* $\frac{7}{3} = \frac{14}{6}$ يعني $14 \times 7 = 3 \times 6$ $7 \times 6 = 14 \times 3$

63

تمرين 2

1 فكك إلى جذاء عوامل أولية العددين 420 و 375.

2 اختزل إلى أقصى حدّ العدد $\frac{168}{96}$

3 أكمل بالعدد المناسب : $\frac{420}{375} = \frac{\dots}{10^2}$

4 أحسب ما يلي : $\frac{420}{375} + 0,88 = \dots$

63

تمرين 3

1 أحسب العبارتين التاليتين :

$B = 0,25 \times 4,4 + 1,1 \times 9 + 3,2$

$A = (74,56 \times 5) \times 2 = \dots$

2 وحدّ إلى أصغر مقام مشترك الكتابات التالية :

$\frac{9}{2}$ و $\frac{13}{4}$ / $\frac{5}{2}$ و $\frac{7}{3}$ / 3 و $\frac{7}{3}$

64

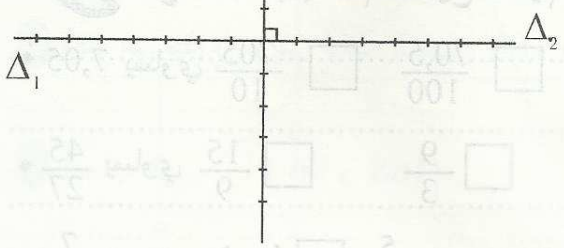
تمرين 4

لاحظ المستقيمين Δ_1 و Δ_2 متعامدين في O والمدرجين حيث وحدة التدرج هي الصم. Δ_1 هو محور الفواصل و Δ_2 هو محور الترتيب.

Δ_2

1 عيّن النّقاط $A(2;3)$ و $B(3;0)$ و $C(-2;1)$.

2 (AC) يقطع Δ_2 في E . ماهي إحداثيات E ؟



3 ابن F مناظرة A بالنسبة لـ Δ_2 و H مناظرة C بالنسبة لـ Δ_1

ثم بيّن أنّ H و E و F على إستقامة واحدة.

تمرين

1 ابن المثلث ABC متقايس الضلعين بحيث $AB = AC = 4$ cm و $BC = 6$ cm.

2 عيّن I منتصف $[BC]$ و J المسقط العمودي C على (AB) .

ماذا يمثّل كلّ من $[AI]$ و $[CJ]$ في المثلث ABC ؟

3 احسب IJ :

4 (AI) يقطع (CJ) في L . ماذا تمثّل L بالنسبة للمثلث ABC ؟

5 بيّن أنّ $(BL) \perp (AC)$ في E .

6 بيّن أنّ IEJ مثلث متقايس الضلعين.

7 عيّن النّقاط K منتصف $[CL]$ و R منتصف $[BL]$ و O نقطة تقاطع $[BK]$ و $[CR]$.

بيّن أنّ L و A و O على إستقامة واحدة.



الثلاثية الثالثة

الصفحة

الفهرس

67

المجور عمليات على الأعداد الكسرية - جمع وطرح الأعداد الكسرية (الدرس)

68

(الدرس) ضرب الأعداد الكسرية

70

(الدرس) قسمة الأعداد الكسرية

72

(الدرس) عبارات حرفية - معادلات

المجور أنشطة جبرية

74

(الدرس) التناسب الطردي والعكسي

المجور التناسب

76

(الدرس) الإحصاء و الاحتمالات

المجور الإحصاء

78

(الدرس) المستطيل - المعين - المربع

المجور رباعيّات الأضلاع

82

(الدرس) متوازي الأضلاع

84

(الدرس) الموشور القائم

المجور الموشور القائم

85

(الدرس) الاسطوانة الدائرية القائمة

الاسطوانة الدائرية القائمة

87

مذفوع 1

تقييم فرفن مراقبة عدد 5

88

مذفوع 2

تقييم فرفن مراقبة عدد 5

89

مذفوع 3

تقييم فرفن مراقبة عدد 5

90

مذفوع 1

تقييم فرفن مراقبة عدد 6

91

مذفوع 2

تقييم فرفن مراقبة عدد 6

93

مذفوع 3

تقييم فرفن مراقبة عدد 6

95

مذفوع 1

تقييم فرفن تاليفي عدد 3

97

مذفوع 2

تقييم فرفن تاليفي عدد 3

99

مذفوع 3

تقييم فرفن تاليفي عدد 3

تمرين 1 للذهاب إلى المدينة قطعت أمي المسافة الفاصلة بين المنزل ومحطة الحافلة في ربع ساعة ثم ركبت الحافلة لمدة نصف ساعة.

1 ماهو بالدقيقة الوقت الذي قضته أمي بين المنزل والمدينة ؟

2 ماهو بالساعة الوقت الذي قضته أمي بين المنزل والمدينة ؟

3 أحسب : $\frac{1}{4} + \frac{1}{2}$

تمرين 2 1- احسب العبارات التالية :

$$A = \frac{13}{2} + 5 = \dots \quad B = \frac{7}{4} + 2,5 = \dots$$

$$C = \left(\frac{7}{3} + \frac{5}{2}\right) + \frac{2}{3} = \dots \quad D = \left(\frac{3}{17} + \frac{5}{4}\right) + \left(\frac{14}{17} + \frac{3}{4}\right) = \dots$$

تمرين 3 لأحمد كمية من الحليب قدرها $\frac{5}{6}$ اللتر شرب منها $\frac{2}{3}$ اللتر. ماهي الكمية المتبقية له ؟

تمرين 4 * أحسب العبارات التالية :

$$F = \left(\frac{7}{24} + \frac{17}{37}\right) - \left(\frac{1}{6} + \frac{17}{37}\right) = \dots \quad E = \frac{5}{27} \times \frac{15}{6} + \frac{10}{27} = \dots$$

$$H = \frac{17}{5} - \left(\frac{7}{5} - \frac{5}{13}\right) = \dots \quad G = \left(\frac{17}{19} - \frac{13}{27}\right) - \left(\frac{25}{38} - \frac{26}{54}\right) = \dots$$

تمرين 5 يملك أحمد مبلغا من المال، أنفق سدسه $\left(\frac{1}{6}\right)$ لشراء كتب وخمسه $\left(\frac{1}{5}\right)$ لشراء مرطبات. وثلث $\left(\frac{1}{3}\right)$ المبلغ لشراء ساعة. ماهو العدد الكسري الممثل للمبلغ الذي بقي له ؟

تمرين

1 قطع عليّ مسافة في ثلاثة أرباع $(\frac{3}{4})$ الساعة. ماهي المدة الزمنية بالدقيقة؟

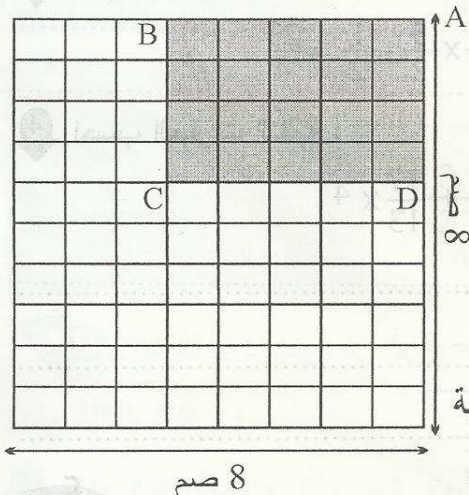
2 قطع أحمد نفس المسافة 7 مرّات في اليوم. ماهي المدة الزمنية بالدقيقة التي قطعها في اليوم؟

3 ماهي المدة الزمنية التي قطعها بالساعة في اليوم؟ (في شكل كسر)

4 أجب : $A = \frac{3}{4} \times 7 = \dots$

تمرين 2

مربع طول ضلعه 8 صم. قُسم إلى مستطيلات فتحصلنا على 8 مستطيلات أفقيًا و 10 مستطيلات عموديًا



1 ماهو العدد الجملي للمستطيلات المقسّمة في المربع؟

2 ماهو عدد المستطيلات المقسّمة في المستطيل ABCD؟

3 ماهو العدد الكسري الذي يمثل عدد المستطيلات في المستطيل

ABCD بالنسبة لعدد المربّع؟

4 ماهو العدد الكسري الذي يمثل طول وعرض المستطيل ABCD بالنسبة

لطول ضلع المربّع؟

5 احسب مساحة المستطيل ABCD بالنسبة لمساحة المربّع.

تمرين 3

1 احسب العبارات التالية :

$A = \frac{17}{13} \times 13 = \dots$ | $C = \frac{13}{15} \times \frac{15}{13} = \dots$

$B = 0 \times \frac{35}{4} = \dots$ | $D = \frac{26}{15} \times \frac{25}{13} = \dots$

2 أكتب في صيغة جذاء عاملين كل من الأعداد التالية :

$$G = \frac{17}{42} = \dots\dots\dots$$

$$F = \frac{6}{35} = \dots\dots\dots$$

$$E = \frac{20}{21} = \dots\dots\dots$$



1 احسب ما يلي :

$$* \frac{15}{19} \times \left(\frac{7}{3} \times \frac{38}{3} \right) = \dots\dots\dots$$

$$* \frac{7}{4} \times \left(\frac{13}{4} \times \frac{4}{14} \right) = \dots\dots\dots$$

2 استعمل هذه النتيجة لحساب العبارات التالية : $\frac{29}{7} \times \frac{13}{5} = \frac{377}{35}$

$$B = \frac{13}{7} \times \left(\frac{29}{5} - \frac{9}{5} \right) = \dots\dots\dots \quad \left| \quad A = \frac{29}{7} \times \left(\frac{13}{5} + \frac{1}{5} \right) = \dots\dots\dots$$

3 ضع الأقواس في المكان المناسب بحيث تكون النتيجة صحيحة :

$$* \frac{5}{3} \times 2 + \frac{7}{5} \times \frac{3}{2} - 1 = \frac{15}{2}$$

$$* \frac{7}{4} + \frac{3}{4} \times \frac{5}{2} - \frac{1}{2} = \frac{23}{4}$$

4 احسب العبارات التالية :

$$D = \frac{39}{47} \times \frac{91}{3} + \frac{39}{47}$$

$$C = \frac{17}{13} \times \frac{5}{2} + \frac{17}{13} \times 4$$

$$= \dots\dots\dots$$

$$= \dots\dots\dots$$

$$= \dots\dots\dots$$

$$= \dots\dots\dots$$

$$E = \frac{5}{27} \times \frac{15}{6} + \frac{10}{27} = \dots\dots\dots$$



1 أكمل بالعدد المناسب :

$$A = \frac{25}{14} \times \dots\dots\dots = \frac{15}{4}$$

$$B = \frac{7}{16} \times \dots\dots\dots = \frac{1}{2}$$

$$C = \frac{5}{3} \times \dots\dots\dots = \frac{10}{9}$$

$$K = \frac{1}{\frac{2}{3} + \frac{5}{6}} = \dots\dots\dots$$

$$H = \frac{1}{\frac{2}{3} \times \frac{3}{4}} = \dots\dots\dots : \text{احسب}$$

$$\dots\dots\dots$$

$$\dots\dots\dots$$



تمرين 1 يملك أحمد مبلغا قدره 6 دنانير. اشترى لعبة بسدس المبلغ $(\frac{1}{6})$.

1 ماهو ثمن اللعبة بالدينار ؟

2 ماهو العدد الكسري الذي يمثل المبلغ المتبقي ؟

3 ماهو بالدينار خمسة أسداس $(\frac{5}{6})$ ستة أخماس $(\frac{6}{5})$ الدينار ؟

تمرين 2 1 جد مقلوب الأعداد التالية : $\frac{1}{7}$, $0,3$, $\frac{3}{2}$, $\frac{7}{4}$

2 أكمل بالعدد المناسب : $9 \times \frac{10}{90} = \dots$, $0,7 \times \dots = 1$, $\frac{5}{3} \times \dots = 1$, $7 \times \dots = 1$

تمرين 3 1 أنجز قسمة العدد الكسري $\frac{3}{2}$ على 5 مستعملا الكتابة العشرية.

2 أكتب النتيجة في صورة عدد كسري :

3 أكمل بما يناسب : $\frac{3}{2} : 5 = \frac{3}{5} = \frac{3}{2} \times \dots = \dots$

4 أنجز قسمة $\frac{3}{2}$ على $\frac{1}{2}$ مستعملا الكتابة العشرية :

5 أكمل بما يناسب : $\frac{3}{2} : \frac{1}{2} = \frac{3}{2} \times \dots = \dots$

تمرين 4

1 أحسب واختزل إلى أقصى حدّ العبارات التالية :

$$B = \frac{1}{\frac{5}{3} + 1} = \dots$$

$$A = \frac{9}{\frac{16}{18}} = \dots$$

$$D = \frac{\frac{5}{6}}{\frac{10}{3}} = \dots$$

$$C = \frac{9}{\frac{16}{18}} = \dots$$

$$F = \frac{\frac{3}{4} + \frac{5}{2}}{\frac{5}{3} + \frac{1}{2}} = \dots$$

$$E = \frac{\frac{7}{6} \times 5}{\frac{7}{6} + 5} = \dots$$

$$G = 3 + \frac{\frac{3}{2} + 2}{7} = \dots$$

$$H = 3 + \frac{3 + \frac{1}{3}}{3 \times \frac{1}{3}} = \dots$$

$$K = 1 + \frac{1}{1 + \frac{1}{2}} = \dots$$

أكمل الجدولين التاليين :

P TTC الثمن النهائي	% TVA الآداء على القيمة المضافة	P HT الثمن بدون آداء	
.....	18 %	85 000	البضاعة رقم 1
87 840	72 000	البضاعة رقم 2

160	0,0002	6	الأبعاد الحقيقية بالمتر
2	5	الأبعاد على التصميم بالصم
.....	500	$\frac{1}{1000}$	$\frac{1}{300}$	السلم

اشترك ثلاثة إخوة في شراء قطعة أرض، دفع الأول $\frac{3}{8}$ من ثمن الأرض ودفع الثاني نصف الثمن ودفع الثالث الباقي.

1 ما هو العدد الكسري الذي يمثل المبلغ الذي دفعه الثالث ؟

2 ما هو ثمن قطعة الأرض إذا علمت أن الأول دفع 6000 دينار؟

3 ما هو المبلغ الذي دفعه الثالث إذا علمت أنه ترك خمسي $(\frac{2}{5})$ المبلغ ديناً عليه؟

تمرين 1 مستطيل طوله يفوق عرضه بـ 5 سم. حيث عرضه هو عدد مجهول نرسم له بـ x :

1 أحسب طوله بدلالة x :

2 بين أن محيط المستطيل هو : $P = 4x + 10$

3 إذا علمت أن عرضه هو 2 سم . أحسب P محيطه.

4 كم كان عرضه x إذا علمت أن P محيطه هو $\frac{43}{3}$ ؟

تمرين 2 اختصر العبارات التالية حيث a عدد صحيح طبيعي.

$$A = 2a + 13 + 3a + 1 =$$

$$B = 3,5a + 0,3 + \frac{1}{2}a + 2,7 =$$

$$C = 7a + 1 + a + \frac{5}{3} =$$

$$D = \frac{5}{2}a + \frac{3}{5} + \frac{7}{4}a + 1 =$$

$$E = a + 1 + a + 2 + a + 3 =$$

تمرين 3 a هو عدد صحيح طبيعي.

1 أنشر ثم اختصر العبارات التالية :

$$E = 2x(a+3) + 3 =$$

$$F = 3x(2a+1) + 2x(5a+3) =$$

$$G = \frac{7}{4}x(3a + \frac{4}{5}) + \frac{3}{2}x(a + \frac{2}{5}) =$$

2 أحسب E و F و G إذا علمت أن $a = 4$

$$E =$$

$$F =$$

$$G =$$

تمرين b هو عدد صحيح طبيعي.

1 أكتب في صيغة جذاء العبارات التالية :

$I = 5b + 5 \times 2 = \dots\dots\dots$

$J = 3b + 3 = \dots\dots\dots$

$K = 6b + 12 = \dots\dots\dots$

$L = 15 + 10b = \dots\dots\dots$



2 أحسب العبارة L إذا علمت أن $3 + 2b = 7$.

تمرين نعتبر العبارة H حيث x عدد صحيح طبيعي. $H = 5x + 2$

.....	2	1	0	x
52	37	22	H

* أكمل الجدول التالي :

تمرين حدد قيمة x إذا علمت أن المربع والمستطيل لهما نفس المحيط.



تمرين أوجد x في كل الحالات :

* $\frac{7}{4} (2x + 4) + \frac{x}{2} = 13$

* $2x + 3 = \frac{11}{2}$

* $\frac{5}{3} (x + 2) + 1 = \frac{13}{3}$

* $3(x + 2) + 1 = 9$

* $\frac{5}{8}x - 1 = \frac{7}{4}$

* $\frac{7}{6} - \frac{2}{3}x = \frac{1}{2}$


يريد أحمد أن يصنع قفصا لعصفوره فجمع كمية من العصيات الخشبية أطوالها مختلفة وقسمها إلى قطع متقايسة طول الواحدة 60 صم.

1 أكمل الجدول التالي :

.....	600	240	180	120	طول العصية
7	5	3	عدد القطع

2 ماذا نسمي هذه الوضعيّة؟ وما هو العامل التناسبيّ؟

3 مثل نتائج الجدول بنقاط على المخطط التالي :



4 ماذا تلاحظ بالنسبة للنقاط المتحصّل عليها في المخطط؟

أكمل جدول التناسب الطردي التالي ثم أوجد $\frac{x}{y}$ العامل التناسبيّ.

7,5	30	5	6	12	9	3	x
.....	7	$\frac{2}{3}$	6	y

العامل التناسبيّ :

تمرين 3

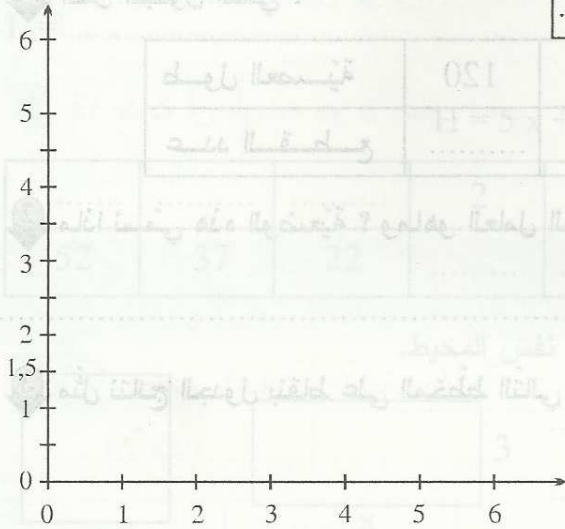
يُنتج مصنع قطعة من مادة البلاستيك مستطيلة الشكل. حيث أبعادها متغيرة ومساحتها ثابتة وهي 6 سنتيمتر مربع.
* نرسم للبعدين x و y :

1 أكمل تعميم الجدول :

$\frac{3}{2}$	$\frac{5}{2}$	2	1	x
.....	$\frac{3}{2}$	2	6	y

2 ماذا تمثل العلاقة بين المتغيرين x و y ؟

3 أرسم النقاط على المخطط. هل هي على استقامة واحدة ؟



4 لاحظ الجدول التالي حيث x و y متغيران.

$\frac{15}{2}$	21	4	6	1,2	x
$\frac{8}{5}$	$\frac{4}{7}$	3	2	10	y

1 أحسب xy في كل حالة ثم استنتج نوع العلاقة :

2 هل أن الجدول التالي يمثل جدول تناسب طردي أم عكسي ؟ علل إجابتك.

8	6	10
4	2	5

تمرين في ما يلي جدول يضبط عدد النوافذ حسب القاعات بعمارة :

7	6	5	4	3	2	1	عدد النوافذ
6	4	13	12	7	3	5	عدد القاعات

1 ما هو التكرار الجملي لهذه السلسلة ؟


2 ما هو مدى هذه السلسلة ؟

3 ما هو منوال هذه السلسلة ؟ أعط مدلولها.

4 أحسب المعدل الحسابي للنوافذ بالقاعة الواحدة.

5 أرسم مخطط العصيات الموافق لهذه السلسلة :

عدد القاعات



6 أكمل الجدول :

7	6	5	4	3	2	1	عدد النوافذ
						$\frac{5}{50} = \frac{1}{10}$	نسبة التواتر

7 ماهي النسبة المئوية للقاعات التي بها أقل من 4 نوافذ؟

تمرين 2 توجد بكيس مجموعة كويرات ملونة: 5 حمراء و 8 صفراء و 2 زرقاء.

1 ماهو احتمال استخراج كرة حمراء؟

2 ماهو احتمال استخراج كرة أيّ كان لونها؟

3 ماهو احتمال استخراج كرة خضراء؟

4 كررنا اللعبة 20 مرة فتحصلنا على النتائج التالية:

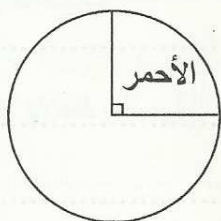
لون الكرة	أحمر	أصفر	أزرق
عدد المرات	5	12	3

* ماهو تواتر ظهور اللون الأصفر؟

5 نريد تمثيل هذه النتائج في مخطط دائري كما هو مبين:

- قيس قطاع اللون الأحمر هو: $90^\circ = \frac{1}{4} \times 360 = \frac{5}{20} \times 360$

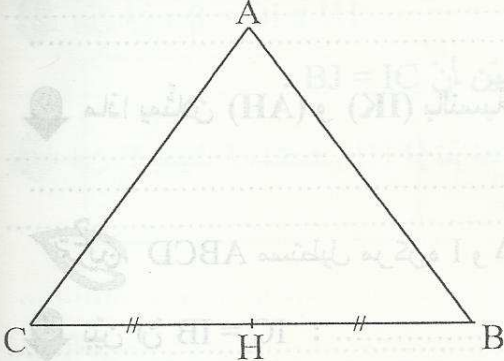
* أوجد قيس قطاع اللون الأصفر. ثم أكمل رسم المخطط.



6 أوجد قيس قطاع اللون الأزرق. ثم أكمل رسم المخطط.

* ط 1:

* ط 2:



ABC مثلث متقايس الضلعين بحيث $AB = AC = 5$

و $BC = 6$ و H منتصف [BC] .

1 بين أن : $\hat{A}HB = 90^\circ$:

2 ابن المستقيم المار من A والعمودي على (AH) ثم المستقيم المار من B والعمودي (BH) يتقاطعان في D .

أ- أحسب $\hat{A}DB$:

ب- بين أن AHBD مستطيل :

3 أحسب AD معللاً جوابك :

4 بين أن : $HD = 5$:

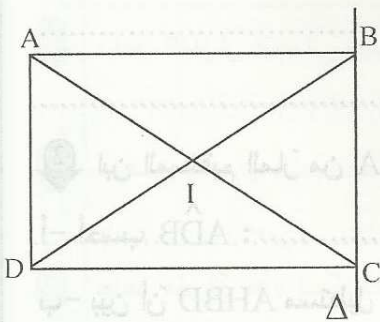
5 ابن الوسط [BI] الصادر من B في المثلث ABC يقطع [AH] في G . ماذا تمثل G بالنسبة لـ ABC ؟

6 المستقيم (CG) يقطع [AB] في K . بين أن D و H و K على استقامة واحدة.

7 أوجد منازرة B بالنسبة لـ (AH) معللاً جوابك.

8 ابن E منازرة D بالنسبة لـ (AH) ثم بين أن $CD = EB$.

9 ماذا يمثلان (AH) و (IK) بالنسبة للمستطيل BCED ؟



10 ABCD مستطيل مركزه I و Δ مستقيم يمرّ من B و C .

1 بين أن $IC = IB$:

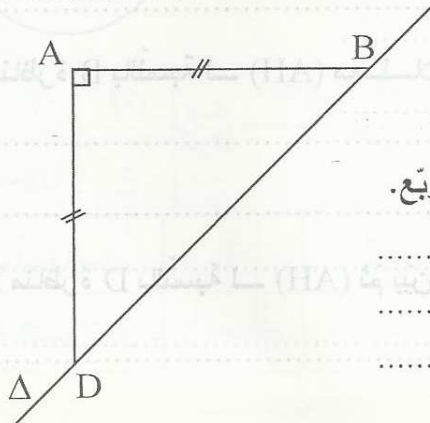
2 ابن J منظره I بالنسبة لـ Δ ثم بين أن IBJC معين .

3 بين أن $(AB) \parallel (IJ)$:

4 بين أن $\hat{B}JC = \hat{A}ID$:

5 لتكن O مركز المعين و H و K مسقطيها العموديين على (BD) و (AC) على التوالي .

* بين أن : $OK = OH$.



3 لاحظ الشكل حيث ABD مثلث قائم ومتقايس

الضلعين في A . و Δ مستقيم يمرّ من B و D .

1 ابن C منظره A بالنسبة لـ Δ ثم بين أن ABCD مربع .

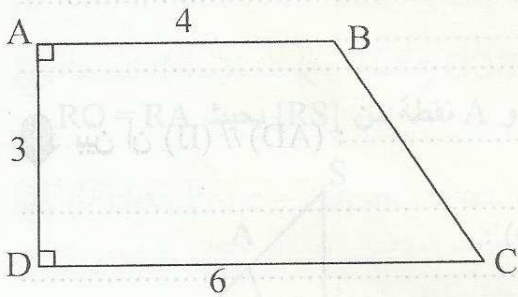
2. بين أن $(BD) \perp (AC)$ و $AC = BD$.

3. عين I منتصف $[AB]$ و J مسقطها العمودي على (DC) ثم بين أن $BJ = IC$.

4. أوجد 3 محاور تناظر للمربع ABCD.

5. استنتج أن $ID = BJ$.

6. (BJ) يقطع (AC) في E و (DI) يقطع (AC) في F. بين أن $(DE) \parallel (BF)$.



تمرين ABCD شبه منحرف بحيث $[AB]$ و $[CD]$ قاعدته

و $AB = 4 \text{ cm}$ و $AD = 3 \text{ cm}$ و $DC = 6 \text{ cm}$.

1. أحسب مساحة شبه المنحرف ABCD.

2. H المسقط العمودي لـ B على (DC) . بين أن ABHD مستطيل.

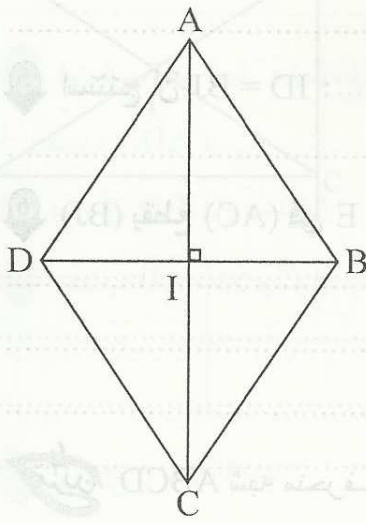
3. أحسب HC.

4. ابن K من $[DH]$ بحيث $BK = BC$ و E منظره B بالنسبة لـ (DC) . ثم بين أن $[EB]$ هو منتصف الزاوية $C\hat{E}K$.

5 عيّن I من [BH] بحيث $HI = 2 \text{ cm}$. ثمّ ابن J بحيث IHCJ معيّن . بيّن أنّه مربع .

6 بيّن أنّ : $HJ \times IC = 8$

7 ابن F بحيث J منتصف [FH] ثمّ أحسب مساحة المثلث FJC .



8 ABCD معيّن مركزه I بحيث $AC = 6 \text{ cm}$ و $BD = 4$.


- 1 أحسب مساحته :
- 2 أرسم المستقيم المارّ من A والعموديّ على (AC) يقطع المستقيم المارّ من B والعموديّ على (BD) في J .

* بيّن أنّ : $AD = IJ$:

3 بيّن أنّ $(AD) \parallel (IJ)$:

4 ابن النقطة E بحيث IBEC مستطيل ثمّ بيّن أنّ J و B و E على استقامة واحدة :

5 بيّن أنّ : $DE = DJ$



تمرين
ABCD مستطيل و E هي نقطة من [AB] بحيث :
AB = 4,5 و AE = 1,5 و BC = 2,5 .

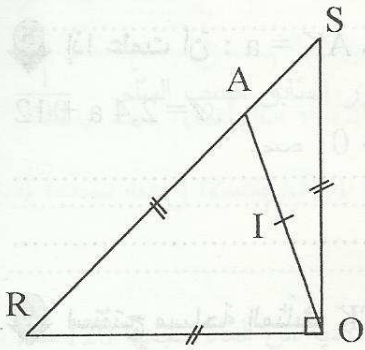
1 أرسم المستقيم المارّ من B والموازي لـ (DE) يقطع (DC) في F . بيّن أنّ EBFD متوازي أضلاع.

2 عيّن I منتصف [AC] ثمّ بيّن أنّ I هي منتصف [EF] .

3 أحسب DF معلّلاً جوابك :

4 أحسب مساحة متوازي الأضلاع EBFD :

تمرين
في الرّسم التّالي : المثلث ROS قائم في O و OR = OS و A نقطة من [RS] بحيث RO = RA و I منتصف [OA] .



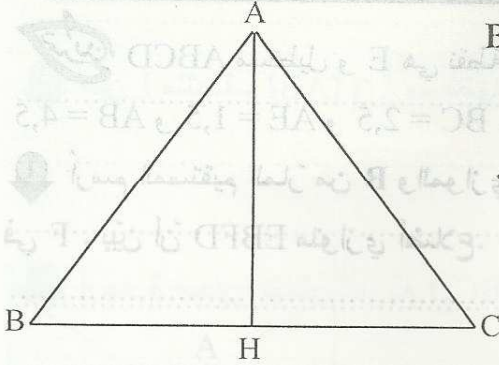
1 ابن E بحيث : ROES متوازي أضلاع ثمّ بيّن أنّ (SE) \perp (OS) :

2 أرسم المستقيم المارّ من A والعموديّ على (OS) يقطع (OE) في F و (OS) في K .

أ/ بيّن أنّ AFOR متوازي أضلاع :

ب/ بيّن أنّ $\hat{AIF} = 90^\circ$:

3 ابن H المسقط العمودي لـ O على (AR) ثم بين أن $OH = OK$:



تدريب
لاحظ الشكل حيث ABC مثلث به $AB = 5\text{cm}$ و $BC = 6\text{cm}$ و ارتفاع بحيث $AH = 4\text{cm}$.

1 ابن D بحيث $ABCD$ متوازي أضلاع. ثم أحسب CD و AD .

2 بين أن $(AD) \perp (AH)$:

3 أرسم $[CK]$ ارتفاع المثلث ABC الصادر من C .

أ- أحسب S مساحة متوازي الأضلاع $ABCD$.

ب- استنتج أن $CK = 4,8\text{cm}$.

4 أحسب P محيط متوازي أضلاع $ABCD$.

5 إذا علمت أن $AK = a$ حيث a عدد عشري. بين أن \mathcal{A} مساحة شبه المنحرف $AKCD$ هي :

$$\mathcal{A} = 2,4a + 12$$

6 استنتج مساحة المثلث BCK بدلالة a :

تمرين

1 أحسب المساحة الجمليّة والحجم لمكعب طول حرفه 5 صم.

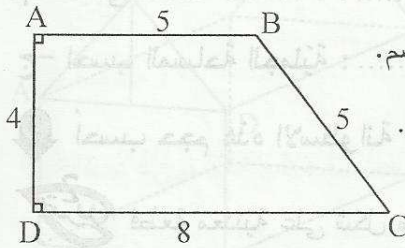
2 متوازي مستطيلات بعد قاعدتيه 3 صم و 4 صم وارتفاعه 5 صم.

أ/ احسب مساحة القاعدة :

ب/ احسب محيط القاعدة :

ج/ احسب المساحة الجمليّة :

د/ أحسب حجم متوازي المستطيلات :



تمرين 2 مشور قائم قاعدته شبه منحرف ABCD كما هو مبين وارتفاعه 10 صم.

1 أحسب محيط القاعدة :

2 أحسب المساحة الجانيّة :

3 أحسب مساحة القاعدة :

4 أحسب المساحة الجمليّة :

5 أحسب حجم المشور :

شاحنة بها صندوق له نفس شكل المشور السابق، أبعاده الحقيقيّة هي أبعاد المشور السابق حسب السّلم $\frac{1}{100}$ استعملنا هذه الشاحنة لنقل التراب لتغطية ممرّ طوله 650 م وعرضه 16 م وسمكه 10 صم.

أ/ أحسب حجم الممرّ بالم³ :

ب/ أحسب عدد السّقرات لنقل التراب اللازم :

تمرين 3 خزّان في شكل مشور قائم ارتفاعه 12 صم ومساحة قاعدته 20 صم². به كميّة من الماء حجمها 120 صم³.

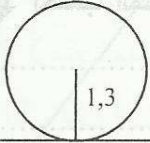
1 ماهو ارتفاع الماء في الخزّان ؟

2 وضعنا في هذا الخزّان قطعة معدنيّة على شكل مكعب فارفع الماء بـ 0,4 صم. ماهو طول حرف المكعب ؟

3 ماهو عدد المكعبات التي يجب أن نضيفها ليكون ارتفاع الماء مساويا لارتفاع المشور ؟


لاحظ النّشر التالي حيث: $\pi \approx 3,14$

هل يمكن أن يكون نشرًا لاسطوانة دائرية قائمة؟ علّل إجابتك.



10,164 cm

2



إذا أنقصنا من طول المستطيل 2 سم نتحصل على النّشر الصحيح.

أ- ماهي المساحة الجانبية للاسطوانة ؟

ب- ماهي مساحة القاعدة ؟

ج- أحسب المساحة الجمليّة :

أحسب حجم هذه الاسطوانة :

قطعة معدنية على شكل مكعب طول حرفه 10 سم.

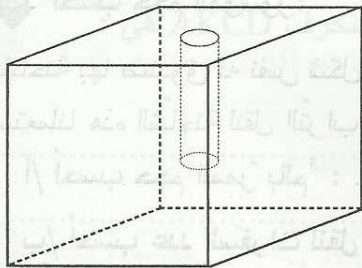
أحسب حجمه :

على مستوى قاعدة المكعب، أنجزنا ثقبًا غير نافذ عمقه 6 سم على شكل اسطوانة

دائرية قائمة فأصبح حجم المكعب المتقوب 830,44 سم³.

أ/ أحسب حجم الاسطوانة :

ب/ أحسب شعاع الاسطوانة R :



على مستوى الوجه الخلفي أنجزنا ثقبًا نافذًا له نفس قطر الثقب السابق.

أحسب حجم الثقب النافذ :

نريد صنع صندوق من الخشب على شكل متوازي المستطيلات بَعْدًا قاعدته هما a و $2a$ وارتفاعه $3a$.

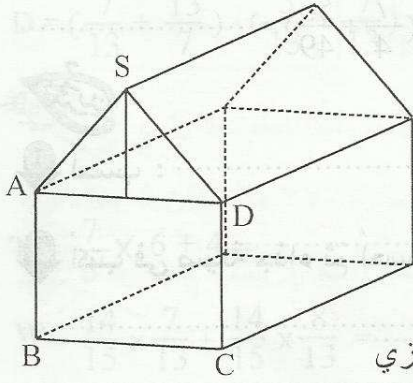
بالصّم حيث a عدد صحيح طبيعي.

1. أحسب المساحة الجملية بدلالة a :

2. أحسب الحجم بدلالة a :

3. ماهي أبعاد الصندوق إذا علمت أنه يسع 48 لترا؟

تمرين
قطعة من المرطبات على شكل موشور قائم قاعدته خماسي الأضلاع $SABCD$ و ارتفاعه 5 صم. بحيث $ABCD$ مربع طول ضلعه 4 صم. و SAD مثلث متقايس الضلعين $SA = SD = 3$ صم. و ارتفاع المثلث هو 2,5 صم.



1. أحسب P محيط القاعدة :

2. أحسب S المساحة الجانبية :

3. أحسب مساحة القاعدة A :

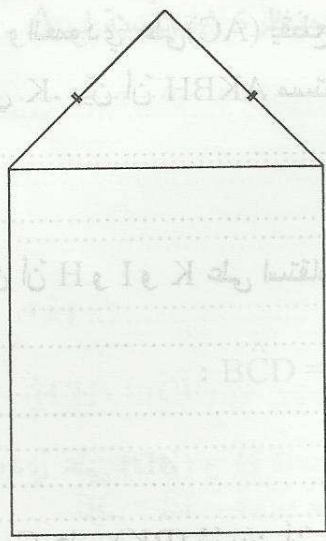
4. أحسب حجم هذه القطعة V :

5. قطعنا هذه القطعة من المرطبات حسب الحرف $[AD]$ فتحصلنا على متوازي

مستطيلات قاعدته مربع وموشور قائم قاعدته مثلث متقايس الضلعين.

أوجد المساحة الجانبية للموشور :

6. أكمل النشر التالي للموشور :





64

أجب ب: "صواب" أو "خطأ":

$$\boxed{} \frac{3}{2} < \frac{9}{4}, \quad \boxed{} \frac{5}{2} < \frac{7}{4}, \quad \boxed{} \frac{6}{17} > \frac{6}{13}, \quad \boxed{} \frac{11}{14} > \frac{35}{49}$$

$$\boxed{} \text{ هو عدد عشري } \frac{99}{180}, \quad \boxed{} \text{ يساوي } 7 + 3 \times \frac{2}{3}$$

64

احسب العبارات التالية:

$$B = \frac{7}{2} - 2,3 = \dots \quad A = \frac{5}{3} + \frac{7}{4} = \dots$$

$$D = 4 - \frac{13}{6} = \dots \quad C = \left(\frac{17}{8} + \frac{55}{49}\right) - \left(\frac{7}{4} + \frac{55}{49}\right) = \dots$$

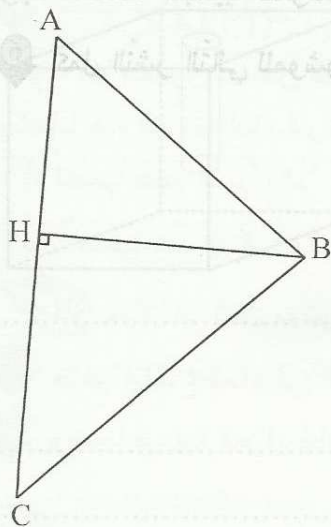
64

$$\frac{9}{10} \times \frac{5}{3} = \dots \quad * \quad \frac{7}{4} \times \frac{3}{2} = \dots$$

$$F = \frac{33}{65} \times 64 + \frac{33}{65} \quad E = \frac{17}{9} \times \frac{35}{8} - \frac{17}{9} \times \frac{13}{4}$$

68

ABC مثلث و [BH] الارتفاع الصادر من B.



1 أرسم المستقيم المارّ من A والعموديّ على (AC) يقطع المستقيم المارّ من B والعموديّ على (BH) في K. بيّن أن AKBH مستطيل.

2 عيّن I منتصف [AB] ثمّ بيّن أن H و I و K على استقامة واحدة.

3 قارن بين AB و HK:

4 ابن R المسقط العموديّ لـ C على (BK) ثمّ بيّن أن CK = AR.

64

تدريب

1 أكتب الأعداد التالية في صورة مجموع عدد صحيح وعدد كسري أصغر من 1 :

$$\frac{46}{11} = \dots \dots \dots \text{ و } \frac{49}{9} = \dots \dots \dots \text{ و } \frac{54}{13} = \dots \dots \dots$$

64

تدريب

2 استنتج ترتيبا تصاعديا للأعداد السابقة :

$$B = \left(\frac{7}{10} + \frac{5}{3}\right) + \frac{1}{3} = \dots \dots \dots \quad \left\| \quad A = \frac{5}{4} + \frac{5}{6} = \dots \dots \dots \right.$$

$$D = \left(\frac{7}{13} + \frac{13}{7}\right) - \left(\frac{5}{13} + \frac{7}{13}\right) = \dots \dots \dots \quad \left\| \quad C = \frac{7}{4} - 1 = \dots \dots \dots \right.$$

64

تدريب

1 أكتب و اختزل إلى أقصى حد :

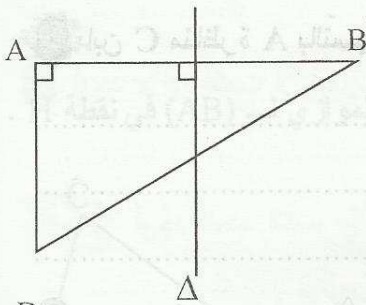
$$T = \frac{7}{3} \times 6 + 4 = \dots \dots \dots \quad Z = \frac{13}{15} \times \frac{35}{26} = \dots \dots \dots \quad Y = \frac{7}{4} \times \frac{3}{2} = \dots \dots \dots$$

$$W = \frac{14}{15} \times \frac{7}{13} + \frac{14}{15} \times \frac{8}{13} = \dots \dots \dots \quad V = \frac{7}{3} \times \left(3 + \frac{3}{7}\right) = \dots \dots \dots$$

68

تدريب

1 لاحظ الشكل حيث ABD مثلث قائم في A و Δ المتوسط العمودي لـ [AB].



2 أبن C مناظرة D بالنسبة لـ Δ . ثم أوجد مناظرة A بالنسبة لـ Δ .

.....
.....

2 بين أن $\hat{A}BC = 90^\circ$:

.....

3 بين أن $\hat{A}DC = \hat{B}CD = 90^\circ$ ثم استنتج أن $\hat{B}CD = 90^\circ$:

.....
.....

4 استنتج أن ABCD مستطيل :

.....



62

ضع علامة (x) أمام المقترح السليم : (لكل سؤال مقترح سليم واحد)

* $\frac{7}{2} \times \frac{2}{5} = \frac{7}{5}$ * $\frac{5}{3} - \frac{4}{3} = 1$ * $1 \times \frac{3}{5} \times \frac{2}{5} = \frac{6}{5}$ * $\frac{7}{4} + \frac{1}{4} = 2$

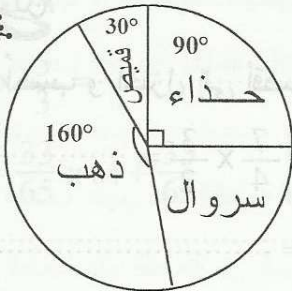
64

أحسب العبارات التالية معتمدا هذه النتيجة : $\frac{7}{12} + \frac{13}{18} = \frac{47}{36}$

B = $(\frac{13}{18} + \frac{7}{17}) + (\frac{7}{12} - \frac{7}{17}) = \dots\dots\dots$ | A = $(\frac{13}{18} + \frac{1}{18}) + \frac{7}{12} = \dots\dots\dots$

D = $\frac{35}{12} + \frac{65}{18} = \dots\dots\dots$ | C = $\frac{3}{47} \times \frac{7}{12} + \frac{3}{47} \times \frac{13}{18} = \dots\dots\dots$

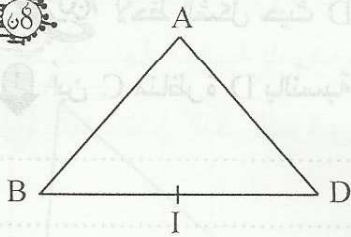
64



يمثل المخطط التالي ثمن مشتريات بمبلغ جملي قدره 72 دينار.

- 1 ماهو ثمن الحذاء ؟ :
- 2 ماهو العدد الكسري الذي يمثل ثمن السروال ؟ :

68



ABD مثلث بحيث $AD = AB$ و I منتصف [BD].

1 ابن C مناظرة A بالنسبة لـ (BD). ثم بين أن ABCD معين .

2 استنتج أن : $\hat{IAD} + \hat{ADI} = 90^\circ$

3 أرسم Δ المار من D والعمودي على (BD) و H المسقط العمودي لـ A على Δ ثم بين أن $IH = AB$

تمرين 1 أحسب ما يلي :

64

$$* \frac{7}{5} = \dots \quad * \frac{3}{4} = \dots \quad * \frac{1}{5} = \dots$$

$$* \frac{5}{6} + \frac{1}{3} = \dots \quad * \frac{1}{\frac{7}{4} + 3} = \dots$$

63

تمرين 2 تقاسم عمال مبلغا من المال. أخذ الأول ثلاثة أثمان ($\frac{3}{8}$) المبلغ والثاني خمس الباقي وأخذ الثالث باقي المبلغ.

1 ماهو العدد الكسري الذي يمثل مناب الثاني بالنسبة لكامل المبلغ ؟

2 تحصل الثالث على مبلغ قدره 28 دينارا. أحسب قيمة المال الذي قسم.

63

تمرين 3 نعتبر العبارة H حيث a عدد صحيح طبيعي. $H = 3 \times (2a + 1) + 2 \times (a + 5) + 3$

1 أنشر ثم اختصر العبارة H :

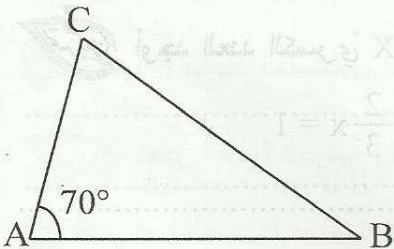
2 فكك العبارة H :

3 أحسب H دون حساب قيمة a إذا علمت أن : $a + 2 = 10$:

610

تمرين 4 ABC مثلث حيث : $AB = 6 \text{ cm}$ و $\hat{BAC} = 70^\circ$ و $AC = 4 \text{ cm}$.

1 أرسم المستقيم المارّ من B والموازي لـ (AC) يقطع المستقيم المارّ من C والموازي لـ (AB) في نقطة H . ماهي طبيعة الرباعيّ ABHC ؟ علّل إجابتك .



2 أحسب P محيطه :

3 أحسب \hat{CHB} :

4 عيّن E المسقط العمودي لـ C على (AB) ثم بيّن أن $(CH) \perp (CE)$.

5 عيّن F المسقط العمودي لـ B على (CH) ثم بيّن أن $BC = EF$.

6 قارن مساحتي المثلثين ABC و CBH :

65

رابطه بينهما :

ضع علامة (x) أمام المقترح السليم في كل سؤال مقترح سليم واحد

تمرين 1

1 أحسب و اختزل إلى أقصى حدّ العبارات التالية :

$$A = \frac{7}{4} - \frac{7}{4} \times \frac{2}{5} + \frac{3}{5} = \dots\dots\dots$$

$$B = \frac{13}{5} \times \left(\frac{1}{13} + 5\right) = \dots\dots\dots$$

$$C = \frac{15}{9} - \frac{1}{\frac{3}{2}} = \dots\dots\dots$$

$$D = \frac{\frac{11}{4} - \frac{1}{6}}{\frac{31}{12}} = \dots\dots\dots$$

2 ضع علامة (x) أمام المقترح السليم : (لكل سؤال مقترح سليم واحد)

يساوي $5a^2$

يساوي $5a$

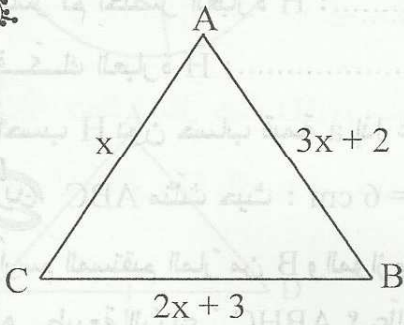
ج- $3a + 2a$ يساوي $6a$

أ- $\frac{1}{3}$ يساوي $\frac{3}{2}$ ، $\frac{2}{3}$

د - $a + a + a$ يساوي a^3 ، $3a$

ب- $\frac{3}{5}$ يساوي $\frac{6}{5}$ ، $\frac{15}{2}$

62



تمرين 2

1 أحسب P محيط المثلث ABC بدلالة x .

2 أوجد x إذا علمت أن قيس المحيط هو 35 صم.

63

أوجد العدد الكسريّ X في كلّ حالة :

تمرين 3

* $x + 2\left(x + \frac{3}{2}\right) = \frac{7}{2}$

* $x + \frac{7}{3} = 4$

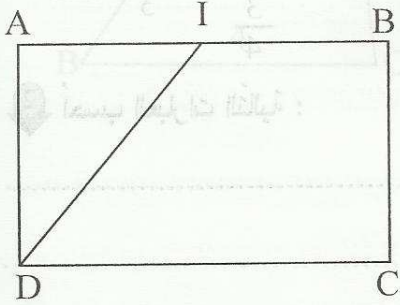
* $\frac{2}{3}x = 1$

* $5 - \frac{2}{3}x = 3$

* $\frac{7}{4}x = \frac{21}{2}$

تمرين ABCD مستطيل بحيث : $AB = 5 \text{ cm}$ و $BC = 3$ و I منتصف [AB].

1 أرسم المستقيم المارّ من C والموازي لـ (DI) يقطع (AB) في J ثم بيّن أنّ IJCD متوازي أضلاع.



2 أحسب IJ ثمّ S مساحة متوازي الأضلاع IJCD.

3 بيّن أنّ B منتصف [JI]

4 بيّن أنّ (BC) هو المتوسط العموديّ لـ [IJ].

5 استنتج أنّ المثلث ICD متقايس الضلعين.

6 ابن النقطة E من (CJ) بحيث (DE) // (IC) ثمّ بيّن أنّ ICED معيّن.

7 استنتج أنّ (BC) // (IE) :

64

1 ضع علامة (x) أمام المقترح السليم الوحيد :

$$\frac{5}{3} = \frac{3}{20} \quad \square$$

$$\frac{3}{7} = \frac{7}{2} \quad \square$$

$$\frac{5}{3} = \frac{20}{3} \quad \square$$

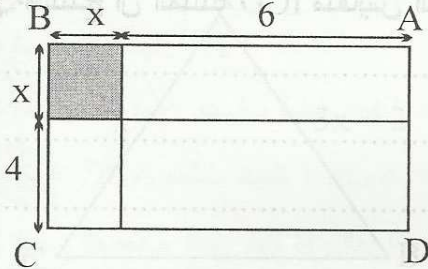
2 أحسب العبارات التالية :

$$A = \frac{3 + \frac{3}{2}}{3 - \frac{3}{2}} = \dots$$

$$B = \frac{5}{2} + \frac{3}{\frac{5}{2} - 1} = \dots$$

$$C = 1 + \frac{1}{1 + \frac{1}{1 + \frac{1}{2}}} = \dots$$

63



2 لاحظ الشكل المصغر .

1 أحسب P محيط المستطيل ABCD بدلالة x .

2 فكك P محيط المستطيل العبرة الحرفية.

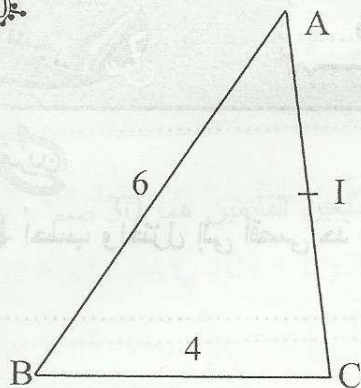
3 أحسب P محيط المستطيل إذا علمت أن محيط المربع هو $\frac{7}{4}$

63

3 تعتبر العبرة الحرفية H حيث a عدد صحيح طبيعي. $H = \frac{5}{6}a + \frac{7}{3}x(a + \frac{2}{7}) + \frac{1}{3}$

1 أنشر ثم اختصر H :

2 أحسب H إذا علمت أن a = 6



ABC مثلث بحيث $AB = 6 \text{ cm}$

و $BC = 4 \text{ cm}$ و $AC = 5 \text{ cm}$ و I منتصف [AC].

1 ابن النقطة D بحيث $AD = 4 \text{ cm}$ و $CD = 6 \text{ cm}$ و [AC]

و [BD] متقاطعان ثم بين أن ABCD متوازي أضلاع.

2 بين أن I هي منتصف [BD]:

3 عين H المسقط العمودي لـ A على (DC) ثم بين أن $(AB) \perp (AH)$.

4 عين K من [CH] بحيث $HK = AH$ و E مسقطها العمودي على (AB). بين أن AHKE مربع.

5 استنتج أن $(EH) \perp (AK)$:

6 نرمل لـ AH بـ a حيث a هو عدد كسري. بين أن مجموع مساحة المثلث AHD وشبه المنحرف EKCB

هي: $a \times (6 - a)$



1 أحسب واختزل إلى أقصى حدّ العبارات التالية :

$$A = \frac{7}{4} - \frac{7}{4} \times \frac{3}{7} + \frac{4}{7} = \dots\dots\dots$$

$$B = \frac{5}{3} \times \left(\frac{3}{2} + \frac{1}{5} \right) - \frac{1}{3} = \dots\dots\dots$$

$$C = \frac{22}{\frac{2}{5} + \frac{1}{3}} = \dots\dots\dots$$

$$D = \frac{\frac{3}{5} \times \frac{5}{2} + 1}{5} = \dots\dots\dots$$

2 أوجد x :

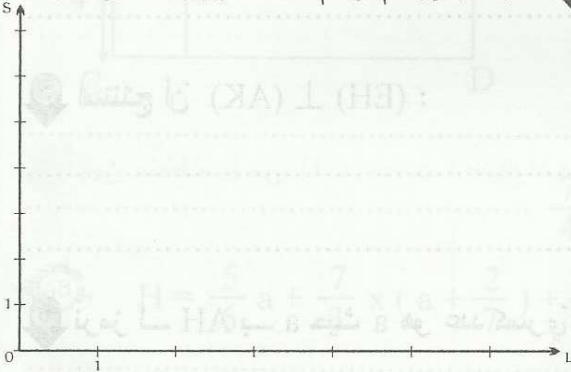
$$\frac{8}{3}x - 1 = \frac{3}{5} = \dots\dots\dots \quad \left| \quad \frac{5}{4}x = \frac{4}{5} = \dots\dots\dots \right.$$

$$5x - \frac{5}{3} = 0 \quad \left| \quad \frac{1}{x} - \frac{7}{4} + 3 = \dots\dots\dots \right.$$



2 ينتج مصنع حديد أنواعا مختلفة من القطع المعدنية لها نفس العرض ومختلفة في السّاحة S ومختلفة في الطّول L .

أكمل الجدول ثمّ ارسم مخطّطا يبيّن هذه الوضعية :



.....	$\frac{6}{5}$	18	12	S
$\frac{7}{6}$	2	10	4	L

1 أحسب العامل التناسبيّ : $\frac{S}{L}$



3 نعتبر العبارة الحرفيّة H حيث a عدد صحيح طبيعيّ.

$$H = 5 \times (a + 2) + 2 \times (3a + 1) + 10$$

1 بيّن بالنّشر والاختصار أنّ : $H = 11a + 22$

2 فك العبارة H :

3 أحسب H إذا علمت أن $a = 5$.

تمرين 9 خزان على شكل موشور قائم قاعدته مثلث قائم بحيث طول الضلعين القائمين هما 30 صم و 40 صم وارتفاع الموشور هو 50 صم.

1 أحسب مساحة القاعدة :

2 أحسب حجمه باللتر :

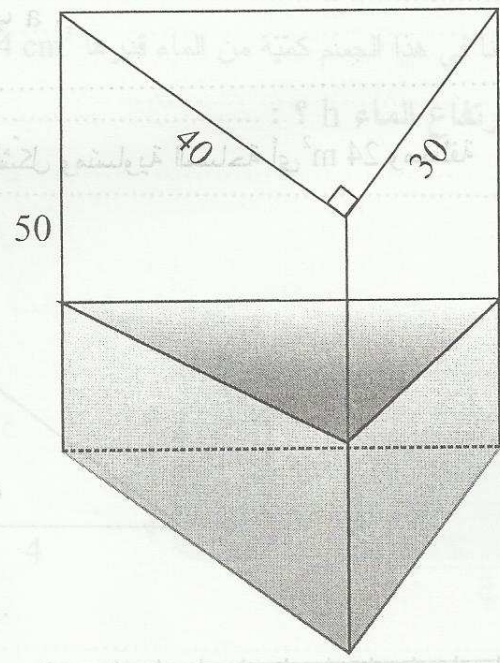
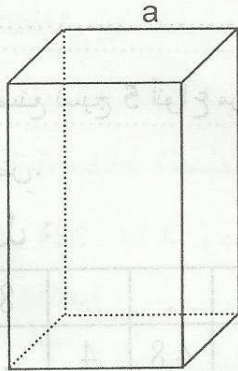
3 صببنا في الخزان 12 لترا من الماء. ماهو ارتفاع الماء ؟

4 وضعنا في الإناء قطعة معدنية على شكل متوازي المستطيلات قاعدتها مربعة الشكل و ارتفاعها 14 صم .

ارتفاع الماء ب 9 صم.

أ/ ماهو حجم هذه القطعة:

ب/ أحسب a طول ضلع المربع :



63

ضع علامة (x) أمام المقترح السليم : (لكل سؤال مقترح سليم واحد)

$4x(a+5)$ $5x(a+4)$ $5x(a+20)$ يساوي $5a+20$ ①

$x = \frac{1}{4}$ ، $x = \frac{9}{4}$ ، $x = \frac{1}{3}$ يعني $3x = \frac{3}{4}$ ②

* متوازي أضلاع له زاوية قائمة هو مستطيل. * متوازي أضلاع قطراه متقايسان هو مربع ③

64

أحسب العبارات التالية :

$A = \frac{30}{15} + 7 = \dots\dots\dots$

$B = 3 + \frac{3}{3 + \frac{1}{3}} = \dots\dots\dots$

$C = \frac{15}{4} \times \frac{37}{21} + \frac{3}{2} \times \frac{37}{21} = \dots\dots\dots$

② نعتبر العبارة E حيث : $E = 6a + 3$

أحسب E إذا علمت أن : $2a + 1 = \frac{5}{21}$ دون حساب a .

63

ينتج مصنع نسيج 5 أنواع من القماش مستطيلة الشكل ومتساوية المساحة أي 24 m^2 ومختلفة


في الطول والعرض.

① أكمل الجدول :

الطول : Y	8	.	.	12	.
العرض : X	.	4	4,8	.	2,5

② ماهي العلاقة التي تربط بين المتغير x العرض

و y الطول ؟



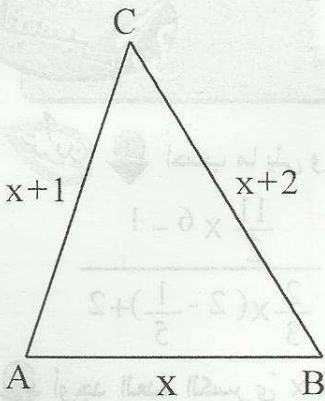
③ أرسم مخطّطاً يمثل هذه العلاقة.

63



مثّلت ABC أبعاده أعداد صحيحة طبيعية متتالية ومحيطه P.

1 نرّمز لـ AB بـ x ، أكتب العبارات الحرفيّة التي تمثّل المحيط P.



2 أوجد الأبعاد AB و AC و BC إذا علمت أنّ $P = 27$ (المحيط)

67



موشور قائم قاعدته مثلث قائم وارتفاعه 9 صم بحيث طول الضلعين القائمين في المثلث هما 3 و 4.

1 أرسّم نشرًا لهذا الجسم انطلاقًا من الشكل أسفل الورقة.

2 أحسب مساحة القاعدة :

3 أحسب حجم هذا الجسم :

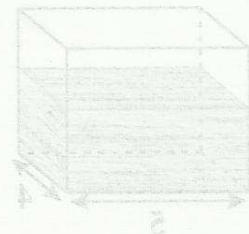
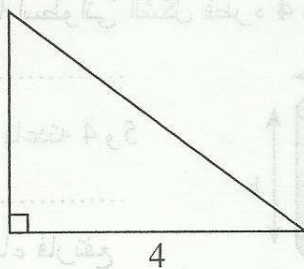
4 وقع ملء هذا الجسم بالتراب بواسطة صندوق على شكل مكعب طول حرفه 3 صم.

أ- ماهو حجم الصندوق ؟

ب- ماهو عدد الصناديق اللازمة لملئه بالتراب ؟

5 وضعنا في هذا الجسم كمية من الماء قدرها 24 cm^3 .

* ماهو ارتفاع الماء h ؟ :



65

1 أكتب ما يلي واختر إلى أقصى حد :

$$E = \frac{5}{4} + \frac{\frac{5}{4} + 1}{\frac{5}{4} - 1}$$

$$F = \frac{13}{12} + \frac{7}{12} \times \frac{11}{7}$$

$$G = \frac{\frac{11}{2} \times 6 - 1}{\frac{2}{3} \times (2 - \frac{1}{5}) + 2}$$

2 أوجد العدد الكسري x في كل حالة :

$$\frac{7}{4} - \frac{5}{2} x = 1 \dots\dots\dots \parallel 5x + \frac{7}{3} = 9 \dots\dots\dots$$

65

تدريب 2 نعتبر العبارة الحرفية A : $A = 2x + 3$ *

2 أوجد x علما أن $A = \frac{9}{2}$

1 أكتب A علما أن $x = \frac{2}{3}$

3 ضع علامة (x) أمام الإجابات الصحيحة: (لكل سؤال إجابة صحيحة واحدة)

$A - 1 = 2x$ $A - 1 = 2(x + 1)$ (ب) $A + 1 = 2(x + 4)$ $A + 1 = 2(x + 2)$ (أ)

63

4	3	2	1	0	عدد الأطفال
3	8	8	4	2	عدد العائلات

تدريب 3 يضبط هذا الجدول عدد الأطفال

بالنسبة لعائلات أحد الأحياء السكنية :

1 ماهو التكرار الجملي (العدد الجملي للعائلات) :

2 ماهو مدى هذه السلسلة ؟ :

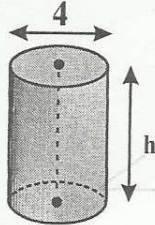
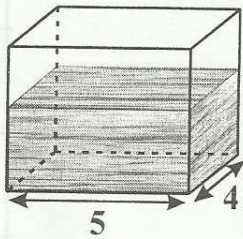
3 احسب عدد الأطفال بهذا الحي :

4 ماهي النسبة المئوية للعائلات التي لها أقل من 3 أطفال :

5 ارسم على كراسك مخطط العصيات مبيئا مضلع التكرار.

67

تدريب 4 نأخذ : $\pi \approx 3,14$ وجسما صلبا اسطوانيا الشكل قطره 4 صم.



1 أكتب مساحة القاعدة :

2 إناء به ماء على شكل متوازي مستطيلات أبعاد قاعدته 4 و 5

أكتب مساحة القاعدة :

3 غمسنا الجسم الصلب الاسطوانيا في الإناء فارتفع سطح الماء بمقدار 6,28 صم.

أكتب حجم الماء الذي ارتفع وماذا يمثل ؟ :

4 استنتج قيمة h ارتفاع الاسطوانة :